

3年 社会の課題 (5/11・12)

社会ノートにはっているプリントは、ぜんぶできましたか？
教科書を見ながら、学しゅうをすすめてくださいね。

方位や地図記号は、おぼえてかんぺきにしましょう！！

《5月11日(月)にすること》

- ①「社会の学しゅう その2・その3」のこたえを見て、
こたえ合わせをしましょう。
(こたえはこのページのつぎにあります。)

- ②まちがえたところやわからなかったところは、
きちんと直しましょう。

- ③東西南北の方位の位置(一)や地図記号は、
しっかりおぼえてかんぺきにしましょう。

《5月12日(火)にすること》

- ①「社会の学しゅう その4」のプリントをしましょう。

＊プリントのとりくみ方＊

- ・がめんを見て、こたえだけをノートに書く。
- ・ダウンロードしてプリントアウトしてする。
- ・家の人にプリントを学校にとりに来てもらってする。

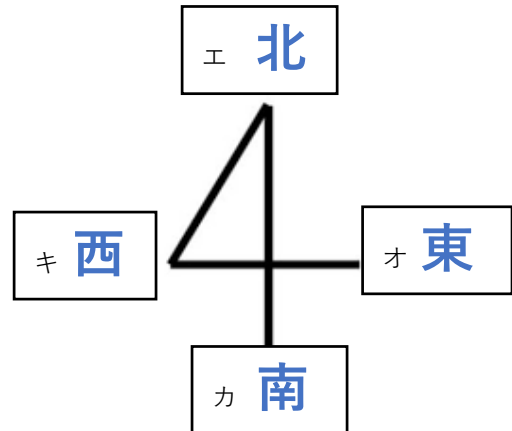
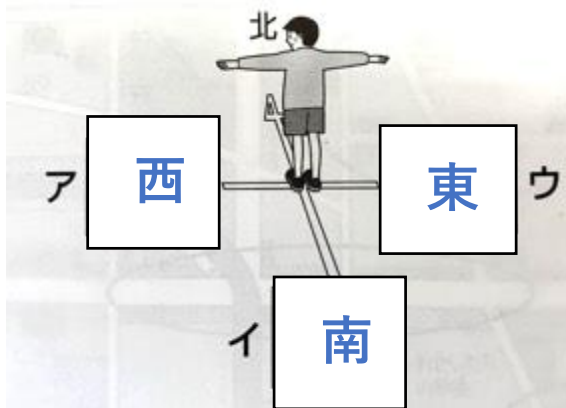
お家のじょうに合わせて、
とりくみやすい方ほうでやりましょう！

- ②教科書12ページの地図記号をかんぺきにおぼえましょう。

＊3年 社会科の学しゅう その2＊

✪ 社会ノートにはっている課題(かだい)の答えです。○つけをしましょう。
まちがえたところは、きちんと直して、正しいことをおぼえておきましょう！！

① ア・イ・ウ・エ・オ・カ・キに入る方位をかん字で書きましょう。



② 4つの方位のことをあわせて何と言いますか？

東西南北

③ 朝、太陽(たいよう)がのぼる方こうの方位は何ですか？

東

④ 昼の12時に太陽(たいよう)がある方こうの方位は何ですか？

南

⑤ 夕方、太陽(たいよう)がしずむ方こうの方位は何ですか？

西

⑥ これは何と言いますか？



方位じしん

⑦ ⑥はどんな場所においてつかいますか？

たいらな場しょ

⑧ 色がついているはりの方位は何ですか？

北

⑨ ク・ケに入る方位は何ですか？



ク 北

ケ 南

⑩ 地図記号（ちずきごう）が何をあらわしているか、書きましょう。

田	いねを切り取った あとの切りかぶの 形		畑	たねからめを出し てきた二つの葉の形	✓
ゆうびん きょく	昔、郵便をあつかって いた逓信省の「テ」の文 字を記号にしたもの	⊕	けいさつ しょ	丸でかこまれた、 2本のけいぼう	⊗
ろうじん ホーム	たてものと、お年 よりが使うつえの 形	⌒	小学校・ 中学校	漢字の「文」という 文字の形	文
びょう いん	赤十字などのしるし	⊕	寺	ぶっきょうでよろこ びや幸せをあらわす 記号	卐
てつ道	線路の形 JR線 JR線いがい 地下鉄	— — — — — — — — — — - - - - -	図書館	本を開いた形	📖

市やく しょ	形にかんけいのな い、たんなる記号	◎
しょうぼう しょ	昔、使われていた、 消ぼう用の道具の 形	Y
工場	きかいの歯車の形	⚙
じん社	神社の入り口にあ るとりいの形	㍿
はし	橋を上から見た形	≡

ここまでが前回の学習で、
おぼえることでしたね！

ぜんぶできた人、
すばらしい👏
よくおぼえました！

わからないところがあった
人は、もう一回教科書6～
13ページを読んでおきま
しょう！

合格



⌘ さあ、つぎからは新しい学しゅうです！
教科書をよく読んでかんがえましょう。



* 3年 社会科の学しゅう その3 *

ステップ4

☆ 教科書8～9ページを2回、音読しましょう。

☆ 9ページの「学び方ナビ」と「計画ノート」をよく読みましょう。

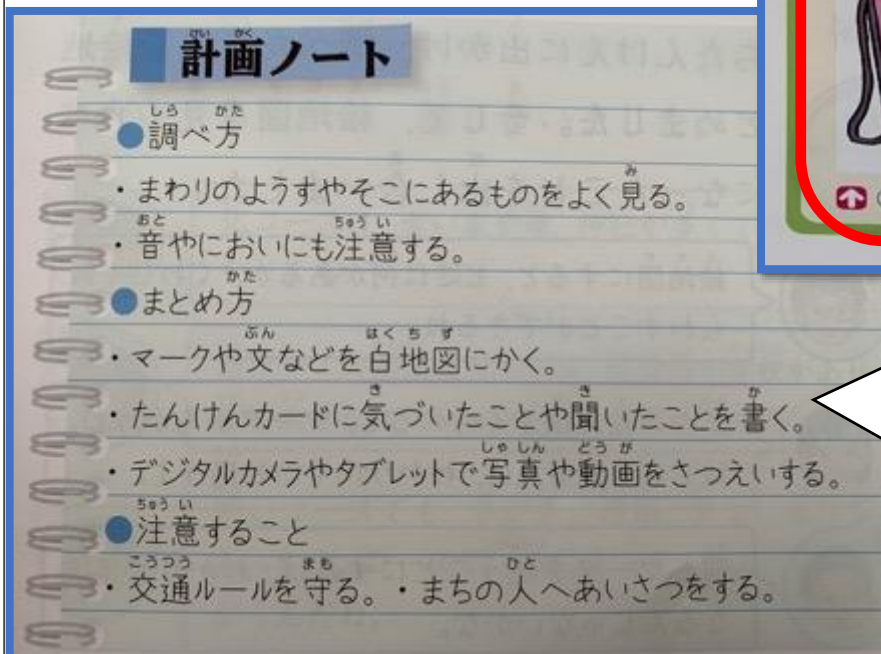
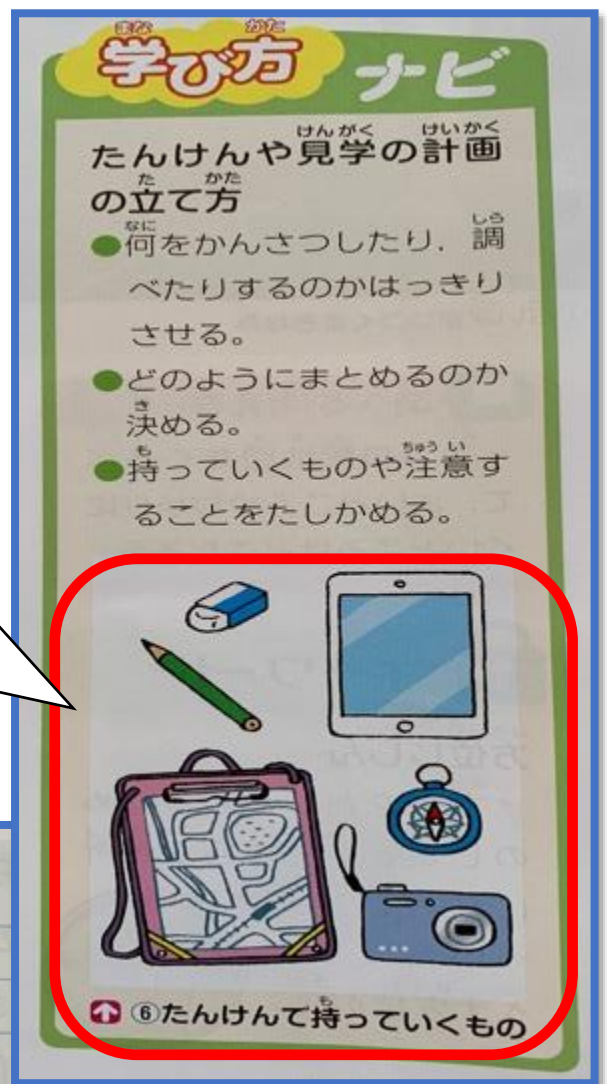
かんがえよう！（もんだい）

2年生の時にも生活科の学しゅうで
「町たんけん」をしましたね。
3年生でも生江の町のようにすをくわしく
知るために「町たんけん」をします。

町たんけんにもっていくもの
です。

何のためにつかうか、
かんがえましょう。

（かんがえたことは声に出して
言ってみましょう。）



「計画ノート」を
読むと何のために
つかうか、
わかってきますね！

ステップ5

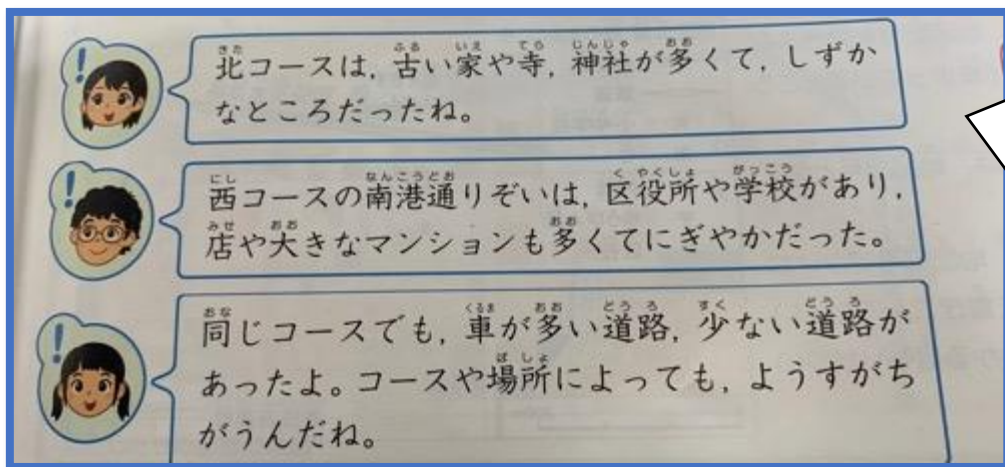
☆ 教科書10～11ページを2回、音読しましょう。

☆ 10ページの絵地図やしゃしん（北コースのようす）と11ページの絵地図やしゃしん（西コースのようす）をよく見て、かんがえましょう。

かんがえよう！（もんだい）

- ① 北コースのようすを見て、気づいたことを2つ話しましょう。
- ② 西コースのようすを見て、気づいたことを2つ話しましょう。
- ③ 2つの絵地図を見くらべて、気になったことを話しましょう。

もんだい①②について、教科書にはつぎのように書いています！

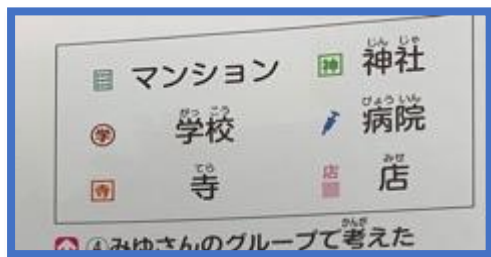


じぶんなりに
気づいたこと
を話したら
Oです！

かんがえを
話すことが
だいじです！

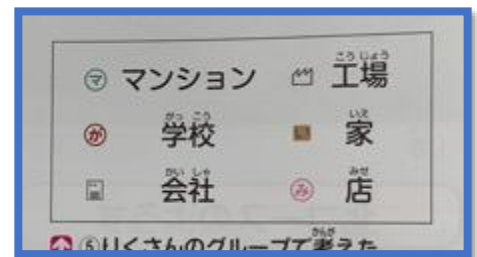
もんだい③については、いっしょにかんがえましょう！

北コースの絵地図のマーク

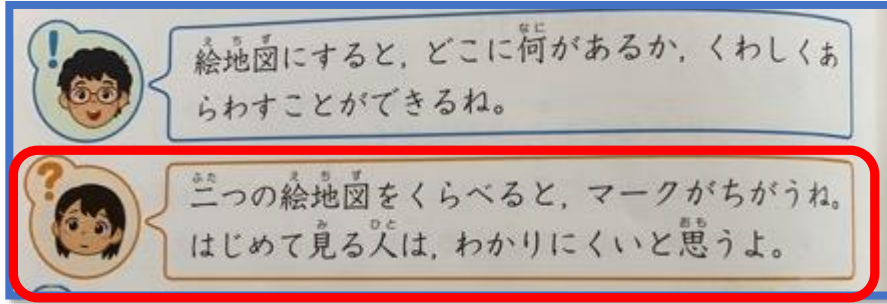


教科書
9ページ
の上に
あります。

西コースの絵地図のマーク



よ～く見ると・・・「マーク」がちがうね！！



絵地図にすると、町のようにくわしくあらわすことができます。
つまり、わかりやすくなります！

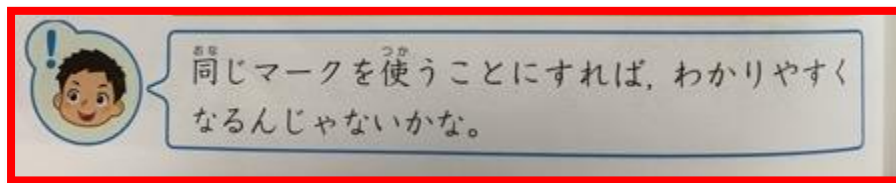
でも・・・
地図によって、マークがちがうと、わかりにくくなってしまう。

どうしたらいいと思いますか？

かんがえを書こう！

れい：マークを同じにするとわかりやすかった。など

教科書には、このように書いていました！



④ だれが見てもわかりやすい地図を作るには、どうすればよいでしょう。かんがえたことを書いてみましょう。

かんがえを書こう！

れい：北を上にして、地図記号をつかって作る。など

④のこたえは、つぎのステップ6でわかります！



ステップ6

- ☆ 教科書 12～13 ページを2回、音読しましょう。
- ☆ 12 ページの「学び方ナビ」の「地図のつくり方」を読みましょう。
- ☆ 13 ページの地図を見て、かんがえましょう。

かんがえよう！（もんだい）

「地図のつくり方」を読んで、こたえましょう。



- ① 地図はどの方位を上にして作りますか？ **北**
- ② 目じるしになるたてものや田・畑には、何をかきこみますか？ **地図記号**
- ③ 家や店など、同じたてものがあつまっているところは、どのようにあらわしますか？ **色をぬる**
- ④ この地図のきいろのところは、何をあらわしていますか？ **家の多いところ**

だれもが見て分かりやすい地図



地図記号 や **色** をつかってあらわす

ステップ5の④の
こたえが
わかりましたね！



かんがえよう！（もんだい）

13ページの地図を見て、こたえましょう。



地図記号はおぼえましょう！

① この地図には、小・中学校はいくつありますか？

9つ

② この地図には、神社はいくつありますか？

2つ

③ 区役所（くやくしょ）は、どの方位にありますか？

南

④ 寺は、どの方位に多くありますか？

東

⑤ この町で一ばん多いのは、何ですか？

家

⌘ 今回は、ここまでです。

かんがえたことは、声に出して話しましょう。

そうすると力がつきますよ！




＊ 3 年 社会科の学しゅう その4 ＊

⌘ これまでの学しゅう(教科書6～13ページ)の**おさらいプリントに**
チャレンジしよう！ わからないところは、教科書を見てもいいですよ。

① 方位について、あとの問いに答えましょう。

(1) 次のア～ウにあてはまる方位を、漢字またはひらがなで□に書きましょう。



(2) 次の道具は方位をたしかめるための道具です。この道具のなまえを書きましょう。



(3) (2)の道具の使い方について、あてはまる言葉を()に書きましょう。

①()場所において、色のついたはりがさす方位が②()です。

② みゆさんたちは、まちたんけんについて話し合いました。計画の立て方として正しいものを三つえらび、()に○を書きましょう。

①()まちたんけんに出かける前に、何をかんさつしたり、調べたりするのははっきりさせるひつようがあるね。

②()まちのようすをくわしく調べるために、コースを決めて、いくつかのグループに分かれて行くといいね。

③()まちたんけんに集中するために、まちの人へのあいさつはしなくてもいいね。

④()カメラで写真をとると、教室に帰ってからみんなにどんなものを見つけたか、せつめいしやすいね。

⑤()見つけたことを白地図にまとめるときは、絵やマークは使わずに、文字だけ書くと、あとで見たときにわかりやすいね。

③ 地図記号についてあとの問いに答えましょう。

(1) 次の①～⑥の地図記号は、何をあらわしていますか。()に書きましょう。

- ① ⊕ () ② 文 ()
③ 〃 () ④ Y ()
⑤ □ () ⑥ ☀ ()

(2) 次のたてものをあらわす地図記号を書きましょう。

- ① 神社 □ ② けいさつしょ □

④ 次の北コースと西コースの二つのコースの地図を見て、それぞれどんなようすのところだといえますか。()に書きましょう。

→ 北コースとおもなマーク

マンション	神社
学校	病院
寺	店

↓ 西コースとおもなマーク

マンション	工場
学校	家
会社	店



北コースは、
が多いところだ。

西コースは、
が多いところだ。

⑤ 友だちから電話がありました。はるきさんはメモと地図を見ながら、まちあわせの場所に行こうとしています。はるきさんのまちあわせの場所はどこですか。()に正しいと思う①～④の番号を一つ書きましょう。



()の公園

〈友だちからの電話のメモ〉

はるきさんの家を出て、北にまっすぐ進み、JRの線路をこえて、はじめての四つ角を東へ進んだところにある公園でまていろよ。