



こうちょうせんせい

ちょうせんじょう

校長先生からの挑戦状 第2号

みんな、元気ですか。学年のプリントもしっかりやっていますか。

校長先生からの挑戦状も、お家の人と一緒に考えてみてください。頑張っ

問題1 右の図の中に、四角形はいくつありますか。

数えてみましょう。9個だけではありません。

ヒント：30個以上ありますよ。



問題2 A～Fにある4種のトランプのマークは、それぞれ異なる数字を表しています。

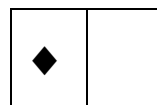
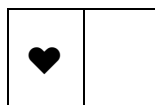
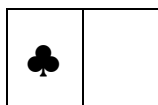
どのマークがどの数字を表しているかを推理して、①～⑥に当てはまるマークの

並びをA～Fから探し、線でつなぎましょう。

- ① 1 3 3 6
- ② 3 6 8 1
- ③ 6 1 3 3
- ④ 3 6 6 8
- ⑤ 8 3 1 6
- ⑥ 6 6 3 1

- A ♣ ♦ ♥ ♥
- B ♠ ♥ ♦ ♣
- C ♣ ♣ ♥ ♦
- D ♦ ♥ ♥ ♣
- E ♥ ♣ ♠ ♦
- F ♥ ♣ ♣ ♠

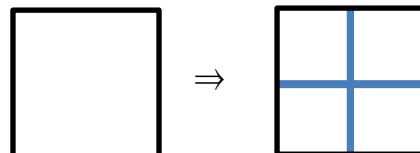
マークと数字



問題3 口に2画を付け加えて、別の漢字を作ります。

例えば、縦に1画、横に1画。どんな漢字に

なりましたか。そう、「田」です。



このように口に2画を付け加えて、別の漢字を作しましょう。

15個書ければ漢字博士です。漢字辞典で調べてもいいですよ。