



こうちょうせんせい

ちょうせんじょう

校長先生からの挑戦状 第19号

こんしゅう みなみつもりかん じけんてい けいさんけんてい
今週は南津守漢字検定・計算検定です。皆さんの頑張りが楽しみです。

ちょうせんじょう いちもん
挑戦状も、一問でもわかったら、校長室まで答えをノートに書いて持って来てください。

もんだい
問題1 ある決まった順番で、漢字が左から右へ並んでいます。このとき、?に入る

かんじ なか
漢字は□の中のどれでしょうか。理由も考えてね。

① 朝 秋 泉 林 ? 赤 音

1. 楽 2. 銀 3. 社

② 休 右 貝 元 ? 全 外

1. 通 2. 空 3. 茶

ヒント 漢字のある部分に注目しよう。

もんだい
問題2 1から8までのカードを1枚ずつ使って、かけ算の式を2つ作りました。

1、3、7のカードを図のように置くと、残りの数のカードはどこに入るでしょうか。

3	×		=	1	
	×	7	=		

もんだい
問題3 4人の買い物の金額をヒントに、それぞれのおやつの値段をあててください。





ただし、ドーナツは100円だとわかっています。

Aさんの買い物  +  +  = 280円

Bさんの買い物  +  = 300円

Cさんの買い物  +  +  = 400円

Dさんの買い物  +  +  = 450円

 = 100円  = 円  = 円  = 円  = 円