



こうちょうせんせい

ちょうせんじょう

校長先生からの挑戦状

だい 19 号 かいとう 解答

もんだい 問題 1 ある決まった順番で、漢字が左から右へ並んでいます。このとき、？に入る

かんじ 漢字は□の中のどれでしょうか。理由も考えてね。

① 朝 秋 泉 林 ? 赤 音
月 火 水 木 金 土 日

1. 楽 2. 銀 3. 社

② 休 右 貝 元 ? 全 外
イ 口 ハ ニ ホ ヘ ト

1. 通 2. 空 3. 茶

もんだい 問題 2 1 から 8 までのカードを 1 枚ずつ使って、かけ算の式を 2 つ作りました。

1、3、7 のカードを図のように置くと、残りの数のカードはどこに入るでしょうか。

3	×	4	=	1	2
8	×	7	=	5	6




もんだい 問題 3 4 人の買い物の金額をヒントに、それぞれのおやつのはしをあたえてください。






ただし、ドーナツは 100 円だとわかっています。

A さんの買い物  +  +  = 280 円 ← ④せんべい

B さんの買い物  +  = 300 円 ← ①チョコ

C さんの買い物  +  +  = 400 円 ← ③アメ

D さんの買い物  +  +  = 450 円 ← ②プリン

 = 100 円  = 50 円  = 200 円  = 30 円  = 150 円