

こうちょうせんせい

ちょうせんじょう

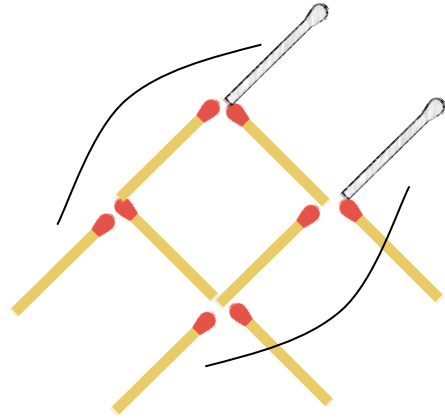
## 校長先生からの挑戦状

だい 26 号 解答

問題 1 <sup>みぎ</sup> <sup>え</sup> <sup>ほん</sup> <sup>ぼう</sup> <sup>つく</sup> <sup>さかな</sup> 右の絵は8本のマッチ棒で作った魚です。

これを2本動かすと上を向いて泳ぐ魚にする

ことができます。どう動かせばよいでしょうか。



**問題2** 私のクラス全員が1列に並んでいます。

私はいま、うしろから数えて15番目にいます。

もし先頭の3人が列のうしろに移ると、私は前から数えて10番目になります。

私のクラス全員は何人でしょうか。



こた ぶんしょう かんたん ず か  
**答え** 文章から簡単な図を描くとわかりやすいよ。

1 2 3 4 5 6 7 8 9 10

1 2 3



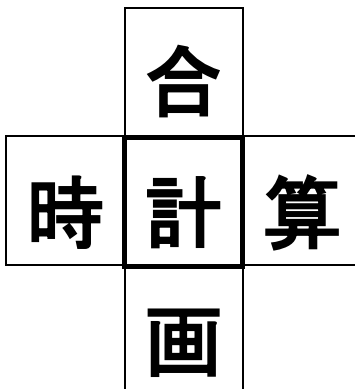
15 14 13 12 11 10 9 8 7 6 5 4 3 2 1

10+15+3=28　ここから、<sup>かさ</sup>重なって<sup>かぞ</sup>数えている<sup>ひとり</sup>一人を<sup>ひ</sup>引きます。28-1=27　27人です。

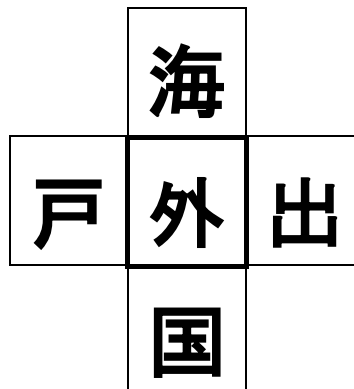
問題3 <sup>もんだい</sup> 2年生の児童が<sup>ねんせい</sup>自主<sup>じどう</sup>学<sup>じしゅがくしゅう</sup>習<sup>かんが</sup>で考<sup>もんだい</sup>えた問題です。と<sup>と</sup>解けるかな。

□の中に漢字を一つ入れて、それぞれ四つの熟語を作ってみてね。

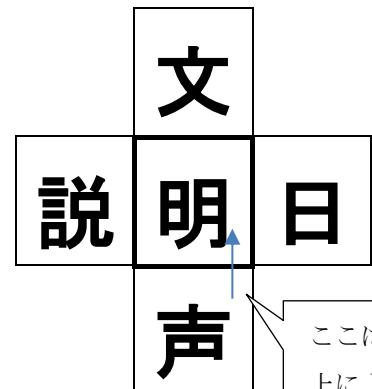
1



2



3



ここは下から  
上によんでね