



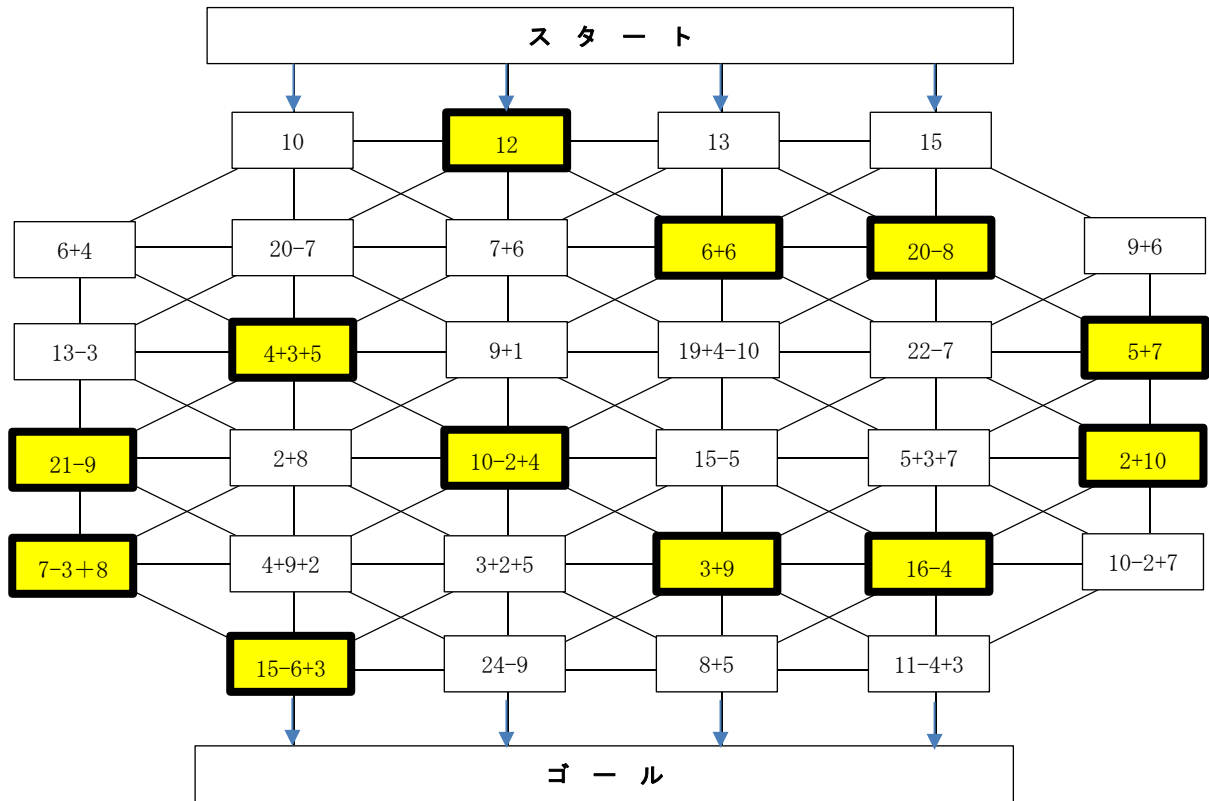
こうちょうせんせい

ちょうせんじょう

# 校長先生からの挑戦状

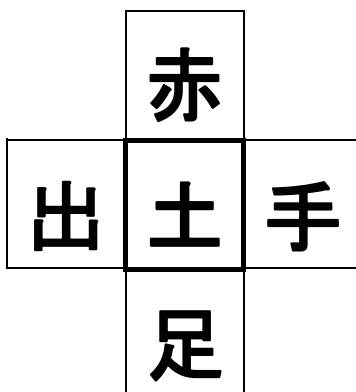
だい 28 号 かいとう 解答

問題 1 もんだい スタートした数と同じ答えになる所だけ通れます。ゴールするのはどの数でしょう。かず おな こた ところ とお かず

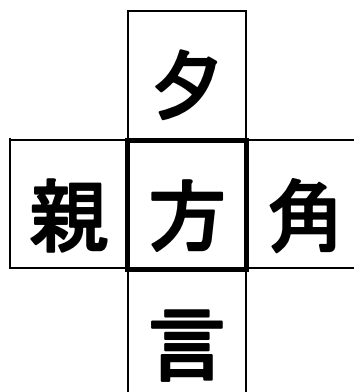


問題 2 もんだい □の中に漢字を一つ入れて、それぞれ四つの熟語を作ってみてね。なか かんじ い じゅくご つく

1



2



3

