



こうちょうせんせい

ちょうせんじょう

校長先生からの挑戦状

だい 2 号 かいとう
第2号解答

もんだい

問題1 ケーキの切り方を考えよう

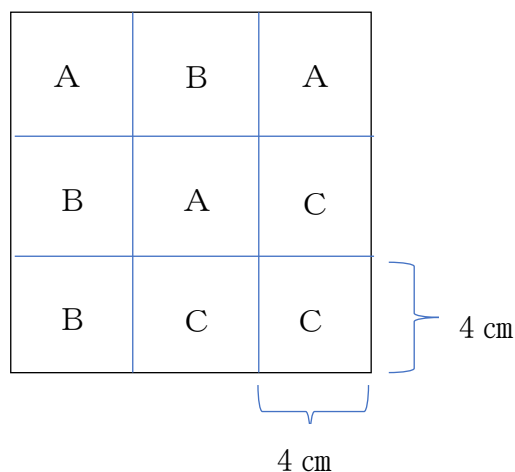
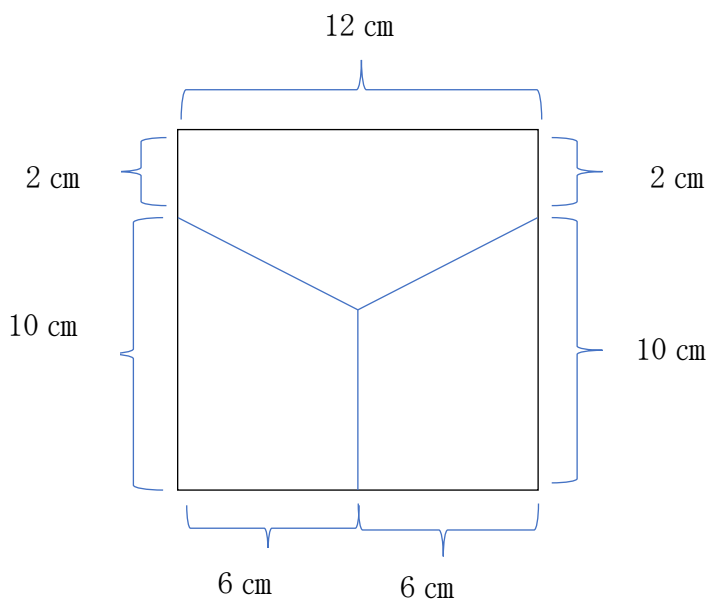
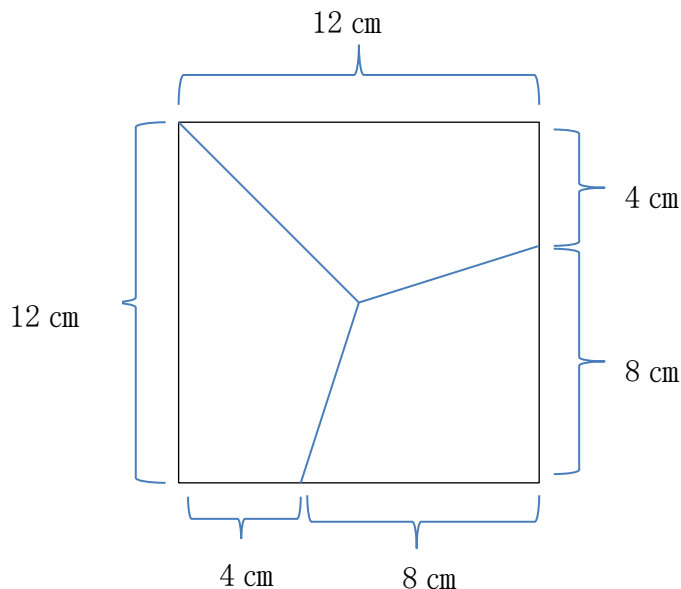
こた
答え

せいほうけい りんかく とうぶん
正方形の輪郭を3等分（16 cmずつ）し、

せいほうけい ちゅうしん
正方形の中心とそれらの点を結ぶ線に

そ
沿って切ればいい。

ほか
他にも切り方はありますよ。



もんだい

問題2 非常口マークには2種類あることを知っていますか。

こた
答え

① 背景が白色（上側）「通路誘導灯」

非常口までの道のりや経路を示します。

② 背景が緑色（下側）「避難口誘導灯」

非常口そのものを指します。

