

2年生社会科「地理」

N0.34

教科書 P.160～161

2年()組()番 名前()

○本日の地理マスターへの課題○

「日本の工業が現在に至るまで」

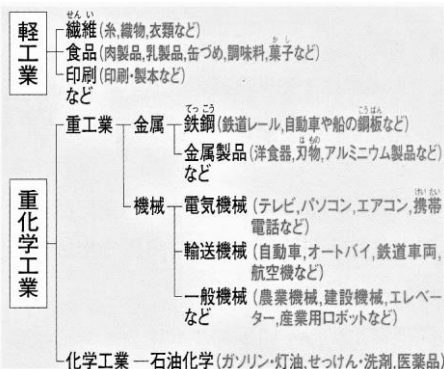

◎本日のメニュー◎

□ベテラン工業地帯たち □のびざかりの工業地域たち □工業をめぐる昔と今

日本の工業の特色と工業地域

Q1.右図「工業の分類」について考えましょう。

①次のア～カの製品を「軽工業」「重工業」「化学工業」に分けましょう。



軽工業【 】

重工業【 】

化学工業【 】

②先端技術産業は、これらの工業とくらべて製品は軽いものであるが、
.....を必要とする工業である。

Q2.右図「おもな工業地域」を見て考えよう。

①図中から「4大工業地帯」といわれた地帯を、
工業出荷額が大きい順に書き出しましょう。

1 位【.....】工業地帯

2 位【.....】工業地帯

3 位【.....】工業地帯

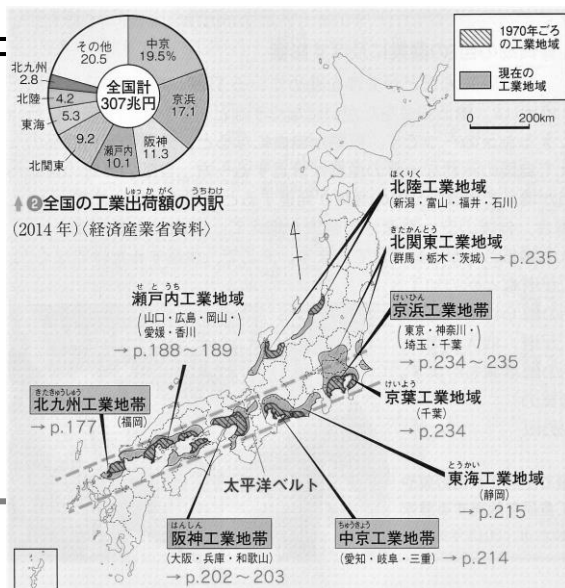
4 位【.....】工業地帯

②工業地域の立地について、まとめましょう。

昔は…

近年は…

なぜなら…



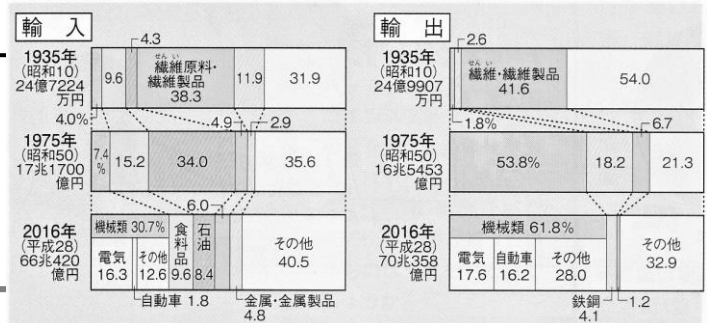
変化する日本の工業

Q3.右図「日本の貿易品目の変化」を見て、考えよう。

①輸入・輸出の割合を参考にして

「加工貿易」とは何か説明しましょう。

加工貿易とは…



②貿易が原因で、2つの国の国内の産業や社会に生じる問題を何というのか？

【 】

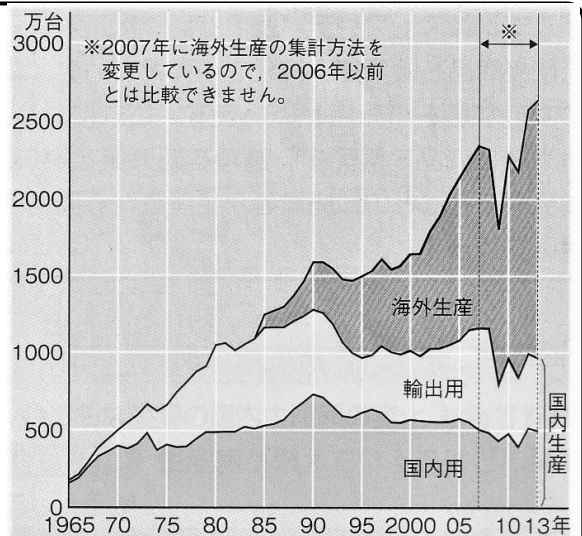
Q4.右図「日本の自動車生産の変化」を見て考えよう。

①1984年ごろから、(1.)の割合が増えていることがわかる。

②このような変化についてまとめた、次の文章を完成させましょう。

工業製品の輸出が増えてくると、日本企業は工場を(2.)につくり、現地向けの生産をおこなうようになった。

最近では、賃金が(2.)アジアの国々への進出が増えている。



③日本企業の工場が海外に移転することで、どのような問題がおこっているか？

国内生産が…

○マスターしたこと○「工業地域が臨海部に多い理由を整理しよう」

このプリントの内容

理解度自己採点

点/100点満点