

17

武士の台頭と鎌倉幕府

武士の成長

名前

年 組 番

／9 問

知 1 次の問いに答えなさい。

- (1) 平安時代の中ごろ，地方の豪族と中央の武官の交流のなかから，武装した集団があらわれました。この人々を何といいますか。

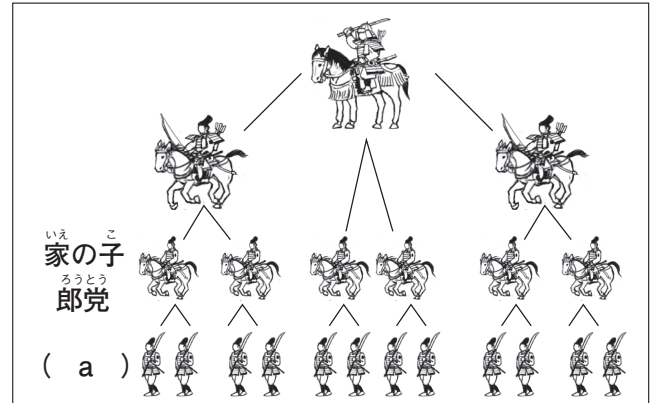
(武 士)

- (2) 右の図は，多くの家来を従えて成長した武士団の仕組みです。a にあてはまる語句を，次のア～エからそれぞれ1つ選び，記号を書きなさい。

ア 棟梁 イ 下人 ウ 惣領 エ 郡司

(イ)

用語 棟梁 一族の長で，子どもや兄弟をまとめて，
従者たちを率いた。棟梁と従者は主従関係で結ばれていた。



- (3) 次の①・②にあてはまる人物を，あとの [] から選んで書きなさい。

① 935 年，関東地方で反乱を起こし，一時期この一帯を支配したが，940 年にたおされた。

② 939 年，瀬戸内海一帯で反乱を起こしたが，941 年に平定された。

[菅原道真 平将門 藤原道長 藤原純友]

① (平将門) ② (藤原純友)

- (4) 次の文中の (A)・(B) にあてはまる氏の名を書きなさい。

成長した武士団のなかでは，天皇の子孫とされる (A) と (B) が有力となり，11 世紀後半には (A) が東国に，12 世紀前半には (B) が西国に勢力をのぼした。

A (源 氏) B (平 氏)

知 2 次の問いに答えなさい。

- (1) 11 世紀後半には，武士同士の大きな戦乱がおきましたが，この後，東北地方では平泉を中心とした奥州藤原氏が力を持ちました。右の図から平泉の位置を選び，記号を書きなさい。

(イ)

- (2) 奥州藤原氏が建てた寺などは現在ものこり，その文化財や庭園は 2011 年に世界遺産に登録されています。奥州藤原氏が建てた寺を，次のア～エから1つ選び，記号を書きなさい。

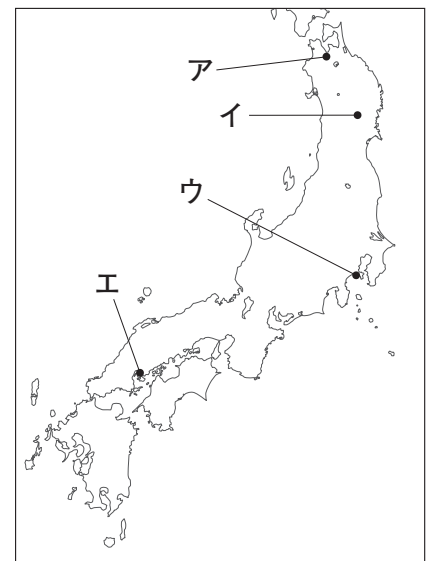
ア 東大寺 イ 法隆寺 ウ 中尊寺 エ 唐招提寺

(ウ)

- (3) 地方の武士は，地位や武力を利用し土地の開発を進め，領地を都の貴族，寺や神社などに寄進しました。こうした土地を何といいますか。漢字2文字で書きなさい。

ポイント 武士は，荘園や公領に館を築き，地方社会の中心になっていった。

(荘 園)



18

武士の台頭と鎌倉幕府

武士の政権の成立

名前

年 組 番

／9問

知 1 次の問いに答えなさい。

- (1) 1086年、白河天皇は、天皇の位をゆずって上皇となっても、上皇の御所で政治を行いました。この政治を何といいますか。

(院 政)

- (2) 下の絵は、「平治の乱」の様子をあらわしたものです。これについて、あとの問いに答えなさい。



ポイント 保元の乱では、平清盛と源義朝が手を結び、崇徳上皇らに勝利したが、平治の乱では、平清盛が源義朝を破って勢力を広げた。

- ① この乱は、平清盛と源義朝の勢力争いに貴族をまきこんで起こりました。戦いに勝ったのは、どちらの人物ですか。

(平清盛)

- ② (1)の人物は、武士として初めて (X) となり、政治の実権をにぎりました。(X) にあてはまる語句を、次の [] から選んで書きなさい。

[摂政 征夷大將軍 太政大臣 関白]

(太政大臣)

- ③ (1)の人物は、兵庫の港を整備し、中国の宋と貿易を行いました。この港は、現在の何市にありましたか。

(神戸市)

知 2 右の地図を見て、次の問いに答えなさい。

- (1) 地図の凡例 A, B は、それぞれの氏の勢力範囲を示しています。それぞれにあてはまる氏を書きなさい。

A (源 氏) B (平 氏)

ポイント 源氏は東日本、平氏は西日本に勢力をのびていた。

- (2) 鎌倉の位置を示しているものを、右の図のア～エから1つ選び、記号を書きなさい。

(イ)

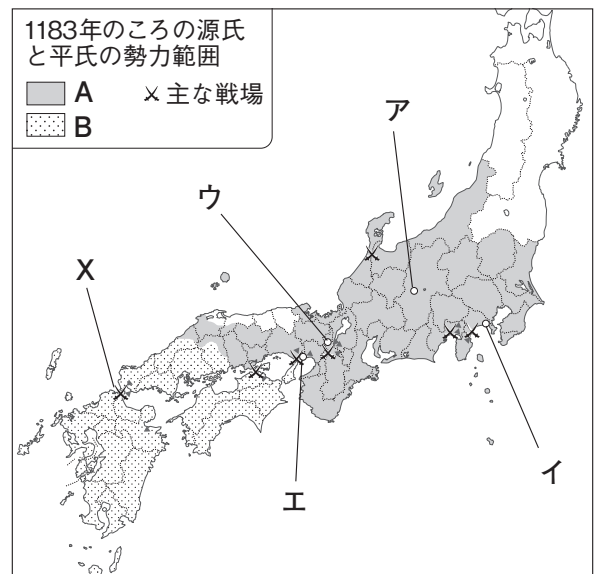
- (3) X は、源氏が平氏を滅ぼすことになった戦いです。この戦いの名称を、次のア～エから1つ選び、記号を書きなさい。

ア 富士川の戦い イ 一ノ谷の戦い
ウ 壇ノ浦の戦い エ 屋島の戦い

(ウ)

- (4) X の戦いで活躍した源氏の武士はだれですか。

(源義経)



19

武士の台頭と鎌倉幕府

鎌倉幕府の成立

名前

年 組 番

/ 12 問

知 1 次の問いに答えなさい。

- (1) 平氏を滅ぼし、鎌倉を本拠地として幕府を開いた人物はだれですか。 (源頼朝)
- (2) 鎌倉幕府を開いた人物が朝廷から任命された役職を、次の [] から選んで書きなさい。
[太政大臣 征夷大將軍 関白] (征夷大將軍)
- (3) 鎌倉幕府の将軍に忠誠をちかい、御恩と奉公の関係で結ばれた武士を何といいますか。 (御家人)
- (4) 1221 (承久3) 年、朝廷が勢力の回復をはかって、幕府討伐の兵を挙げました。この乱を起こした人物を、次の [] から選んで書きなさい。
[後鳥羽上皇 白河上皇 後白河上皇] (後鳥羽上皇)
- (5) 承久の乱が起こったとき、鎌倉幕府の初代将軍の妻が武士たちに将軍の御恩を説いて、結束して立ち向かうように訴えかけました。その人物はだれですか。 (北条政子)

注意! 白河上皇は、院政を最初に行った上皇。後白河上皇は平清盛に助けられ、のちに対立した上皇。

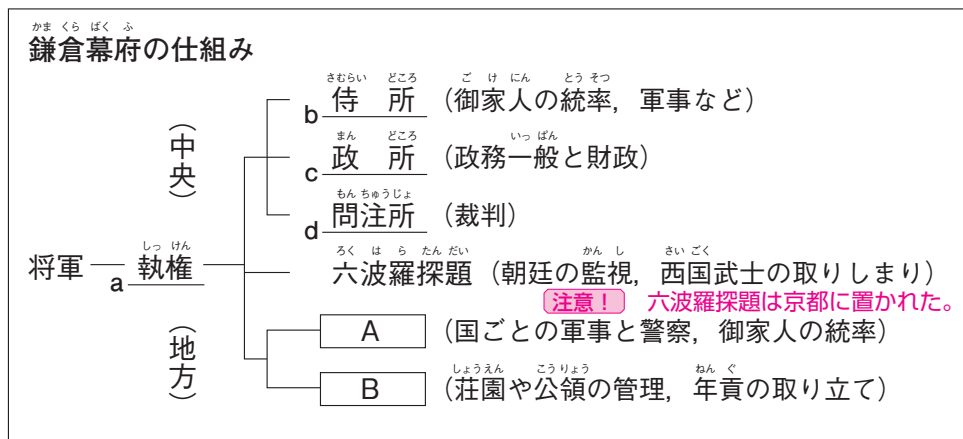
知 2 右の図を見て、次の問いに答えなさい。

知 (1) 図中の下線部 a の役職に代々ついて、幕府の政治を動かしたのは、何氏ですか。

(北条氏)

知 (2) 図中の下線部 b ~ d の役所は、どこに置かれましたか。

(鎌 倉)



知 (3) 図中の A, B にあてはまる語句を、それぞれ書きなさい。

A (守 護) B (地 頭)

知 3 次の資料を読んで、あとの問いに答えなさい。

御成敗式目 (部分要約)

- 諸国の守護の職務は、頼朝公の時代に定められたように、(A)の御所の警備と、謀反や殺人などの犯罪人の取りしまりに限る。
- 武士が20年の間、実際に土地を支配しているならば、その権利を認める。
- 女性が養子をとることは、B 律令では許されていないが、頼朝公のとき以来現在に至るまで、子どものない女性が土地を養子にゆずりあたえる事例は、武士の慣習として数え切れない。

知 (1) 資料中の (A) にあてはまる地名を書きなさい。 (京 都)

知 (2) 資料中の下線部 B の法律は、どこが定めたものですか。次の [] から選んで書きなさい。

[朝廷 政所 問注所]

(朝 廷)

知 (3) この御成敗式目を定めた人物を、次の [] から選んで書きなさい。

[源 頼 朝 北条政子 北条泰時]

ポイント 1232年に定められた御成敗式目は、武士の社会の慣習に基づいてつくられた。 (北条泰時)



武士の台頭と鎌倉幕府 武家政治の始まり

名前

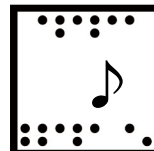
年 組 番

思考・判断・表現 / 3 問

技 能 / 0 問

/ 100 点

知識・理解 / 10 問



(1)(2)(4)は各5点,その他各10点 2各10点 3(1)は10点,(2)(3)は各5点)

知 恵 1 あゆみさんがつくった次の人物カードを見て、あとの問いに答えなさい。

A 源頼朝は、朝廷から X に任じられ、幕府を開いた。

頼朝が鎌倉幕府を開いたのは、1185年(その他1183年,1192年などとする説もある)

B 平将門は、関東の武士たちを率いて、反乱を起こした。

平将門の乱は、935年

C 白河天皇は、位をゆずり上皇となったあとも政治を行った。

白河天皇の生没年 1053～1129年

D 平清盛は、Y の乱で力を強め、海外との貿易を行った。

平治の乱は1156年

知 (1) カード A の X, Y にあてはまる語句を書きなさい。

X (征夷大將軍) Y (平 治)

知 (2) カード B の下線部が起こったころ、瀬戸内海一帯で反乱を起こした人物を、次のア～ウから1人選び、記号を書きなさい。

ア 藤原道長 イ 藤原純友 ウ 源義経

(イ)

知 (3) カード C の下線部のような政治を何といいますか。

(院 政)

知 (4) カード D の下線部の貿易を行うために整備した港を、次のア～ウから1つ選び、記号を書きなさい。

ア 堺の港 イ 博多の港 ウ 兵庫の港

(ウ)

恵 (5) カード A ～ D を年代の古い順から並べ、記号を書きなさい。

(B → C → D → A)

知 恵 2 右の図を見て、次の問いに答えなさい。

知 (1) 図中の A にあてはまる、将軍を補佐する役職を何といいますか。

(執 権)

知 (2) 図中の B にあてはまる、国ごとに置かれた役職を何といいますか。

(守 護)

恵 (3) 図中の a の主な仕事は何ですか。次のア～ウから1つ選び、記号を書きなさい。

ア 財政と政治一般 → 政所
イ 荘園の管理と年貢取り立て → 地頭
ウ 朝廷と西国武士の監視 → 六波羅探題

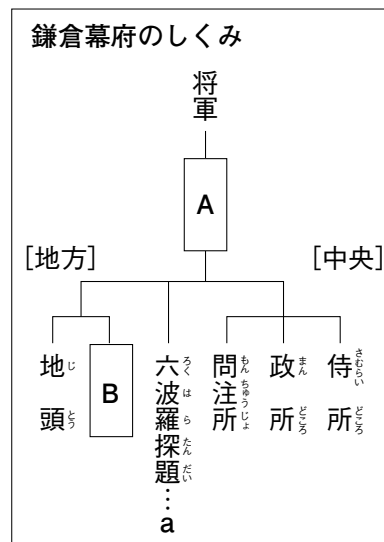
ポイント 承久の乱の後、幕府は朝廷や西国武士を監視するために、六波羅探題を置いた。

(ウ)

恵 (4) 図中の将軍とこれに従った武士とは、御恩と奉公の関係で結ばれていました。そのうちの「御恩」の内容を、簡単に書きなさい。

((例) 将軍が配下の武士に対して、先祖伝来の領地を保護し、手柄をたてると新しい領地をあたえること。)

守護や地頭に任命されることが書かれていても正答とする



知 3 次の問いに答えなさい。

- (1) 右の資料は、鎌倉幕府が定めた武士の法律です。この法律を何とといいますか。

(御成敗式目 (貞永式目))

- (2) この法律を定めた幕府の執権は、だれですか。次のア～ウから 1 人選び、記号を書きなさい。

ア 北条時政 イ 北条泰時 ウ 北条時宗

【注意!】 北条時政は鎌倉幕府の初代執権で、北条政子の父。 (イ)
北条時宗は元寇の時の執権。

- (3) 資料の X には、地名があてはまります。この地名を書きなさい。

(京 都)

- 一 諸国の守護の職務は、頼朝公の時代に定められたように、X の御所の警備と、謀反や殺人などの犯罪人の取りしまりに限る。
- 一 武士が 20 年の間、実際に土地を支配しているならば、その権利を認める。

(部分要約)

7

武士の台頭と鎌倉幕府

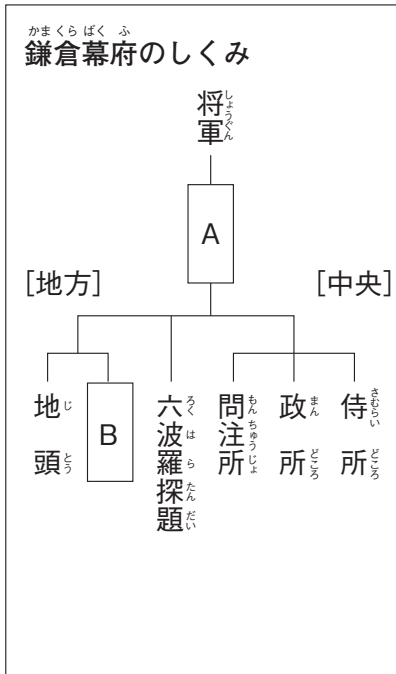
武家政治の始まり

名前

年 組 番

/ 14 問

●重要図のポイント● () にあてはまる語句を, [] から選んで書きなさい。



① **A** は, 将軍を補佐する仕事を行った(**執権**)で, 北条氏が代々受けついだ。

[摂政 関白 執権]

② **B** は, 国ごとに置かれた(**守護**)で, 領国内の軍事・警察の仕事にあたった。

[守護 国司 里長] **【注意!】** 国司は, 律令政治のもと, 国から地方に派遣された。

③ 幕府は, 後鳥羽上皇が幕府をたおそうとして起こした承久の乱をしずめたあと, 朝廷の監視と西国武士の統制のために, 京都に(**六波羅探題**)を置いた。

[大宰府 六波羅探題 鎌倉府]

●要点のまとめ● 次の文中の () にあてはまる語句を, 下の [] から選んで書きなさい。

■武士の登場

平安時代の中ごろ, 地方では有力者が開墾にはげんで豪族となり, 中央では朝廷の武官が貴族の警護を行い, 実力を認められていった。この地方の豪族と中央の武官の交流のなかから(**武士**)がおこり, 従者を組織して武士団をつくった。10 世紀の中ごろ, 関東では(**平将門**)が, 瀬戸内海一帯では藤原純友が反乱をおこした。

■武士の成長と院政

武士の力を利用して新しい政治を行ったのが(**白河天皇**)で, 位をゆずって上皇となっても政治を行った。この政治を(**院政**)という。

■平氏の政権

平治の乱で源氏を破った(**平清盛**)は, 武士としてはじめて太政大臣となり, 政治の実権をにぎった。また, (**兵庫の港**)を整備し, 中国との貿易を行った。

■鎌倉幕府の成立

平氏の滅亡後, (**源頼朝**)は, 国ごとに(**守護**), 荘園や公領ごとに(**地頭**)を置くことを朝廷に認めさせた。そして, 征夷大將軍に任じられて, 鎌倉に幕府を開いた。**【ポイント】** 源頼朝が征夷大將軍に任じられたのは 1192 年。

■執権政治の開始

鎌倉幕府で実権をにぎった北条氏は, 代々(**執権**)の役職について政治を行った。後鳥羽上皇は, 幕府をたおそうとして(**承久の乱**)を起こしたが, 幕府の大軍に敗れた。

[執権 守護 地頭 承久の乱 兵庫の港 院政 武士
源頼朝 平清盛 平将門 白河天皇]

7

武士の台頭と鎌倉幕府

武家政治の始まり

名前

年 組 番

/ 12 問

知 恵 1 右の年表を見て、次の問いに答えなさい。

知 (1) 年表中の A が起こったところ、関東で反乱を起こした人物は、だれですか。

ポイント 平将門の乱は、935 ～ (平将門) 940 年。

知 (2) 年表中の下線部 a は、どのような政治のしくみですか。簡単に書きなさい。

((例) 天皇の位をゆずってのち、上皇として政治を行うしくみ。)

知 (3) 年表中の下線部 b の人物は、朝廷の何という役職について政治を動かしましたか。

(太政大臣)

知 (4) 年表中の B の最後の戦いは、どこで起きましたか。次のア～エから 1 つ選び、記号を書きなさい。

ア 屋島 イ 壇ノ浦 ウ 一の谷 エ 富士川

(イ)

知 (5) (4)の戦いで活躍した源義経は、平氏の滅亡後、頼朝に追われました。頼朝は義経をとらえることを口実に、朝廷に 2 つの役職を認めさせました。これらの役職を書きなさい。

(守護) (地頭)

知 (6) 年表中の下線部 c と主従関係を結んだ武士を、何といいますか。

(御家人)

知 恵 2 右の資料は、承久の乱が起きたときの幕府の記録の一部です。これについて、次の問いに答えなさい。

知 (1) 資料中の下線部 a は、ある人物の妻です。ある人物とは、だれですか。

(源頼朝)

知 (2) 資料中の下線部 b のように、将軍から受けた恩を何といいますか。漢字 2 字で書きなさい。

(御恩)

知 (3) 資料中の下線部 c のように、将軍の恩に報いることを何といいますか。漢字 2 字で書きなさい。

(奉公)

知 (4) 資料中の下線部 d にいた、相手側の中心人物はだれですか。次のア～ウから 1 人選び、記号を書きなさい。

ア 白河上皇 イ 藤原道長 ウ 後鳥羽上皇

(ウ)

知 (5) この乱の結果、朝廷の勢力と幕府の勢力の関係はどうなりましたか。簡単に書きなさい。

((例) 朝廷の勢力がおとろえ、幕府の勢力が全国におよぶようになった。)

ポイント 承久の乱の後、幕府は朝廷の監視のため京都に六波羅探題を置いた。

年代	できごと
939	ふじわらのすみとも 藤原純友が反乱を起こす…………… A
1086	しらかわじょうこう 白河上皇の a 院政が始まる
1159	へいじ 平治の乱が起こる
1167	たいらのきよもり b 平清盛が政治の実権をにぎる
1185	へいし 平氏が滅びる…………… B
1192	みなもとよりとも 源頼朝が c 征夷大將軍となる
1221	じょうきゅう 承久の乱が起こる

ほうじょうまさこ

a 北条政子のうったえ

みなの方、よく聞きなさい。
これが最後の言葉です。頼朝公が朝廷の敵をたおし、幕府を開いてこのかた、官職といい、土地といい、b その恩は山より高く、海より深いものでした。c みなそれぞれに報いたいという志はきつと浅くないはず。名誉を大事にする者は、d 京都に向かって出陣し、逆臣をうち取り、幕府を守りなさい。(吾妻鏡)

20

武士の台頭と鎌倉幕府


武士と民衆の生活

名前

年 組 番

/ 11 問

図 1 下の絵を見て、あとの問いに答えなさい。



(1) 絵にえがかれている A～F のことがらを、次の [] から選んで書きなさい。

[弓矢の手入れ 見張り 馬の世話 板ぶきの屋敷 貢ぎ物を受け取る 板べい]

A (馬の世話) B (弓矢の手入れ) C (貢ぎ物を受け取る)
D (板ぶきの屋敷) E (板べい) F (見張り)

(2) この時代のことについて、書かれた文であやまっているものを、次のア～エから 1 つ選び、記号を書きなさい。

- ア 武士の領地は、分割相続であった。
- イ 京都に住んで、豊かな生活を送る武士が生まれた。
- ウ 土地に対して地頭の権力が強くなった。
- エ 女性の地頭は、ほとんどいなかった。

(間違えやすい) 武士の領地は分割相続で、女子にも分けあたえられたので、女性の地頭も多くいた。 (工)

図 2 次の文を読んで、あとの問いに答えなさい。

鎌倉時代の中ごろから、農業生産が高まった。田を耕すために (A) が利用され、鉄製の農具がいっそう普及し、草や木の灰が (B) として使われるようになった。また、a 米の裏作に麦をつくることが広まった。

生産力が高まると商業が盛んになり、寺社の門前や交通の便利なところで (C) が開かれるようになり、人々が集まって町が生まれた。

ポイント 鎌倉時代から牛や馬が農耕に広く利用されるようになった。

(1) 文中の () にあてはまる語句を、次の [] から 1 つずつ選んで書きなさい。

[定期市 肥料 牛馬]

A (牛馬) B (肥料) C (定期市)

(2) 文中の下線部 a の耕作の方法を何といいますか。

(二毛作)

21

武士の台頭と鎌倉幕府

鎌倉時代の文化と宗教

名前

年 組 番

／11問

知 1 次の問いに答えなさい。

- (1) 資料1は、東大寺南大門にある運慶・快慶たちがつくった彫刻作品をえがいたものです。この作品を何といいますか。

(金剛力士像(吽形))

- (2) 東大寺は平氏に焼かれたのち、鎌倉時代の初めに再建されましたが、建築には中国から新しい様式が取り入れられました。そのときの中国の王朝名を、次の[]から選んで書きなさい。

[唐 宋 元]

(宋)

- (3) 資料2には、漢語と口語をまじえた文章で源平の戦いの様子などが力強くえがかれています。このような文学作品を何といいますか。

(軍記物)

- (4) 資料3は、資料2の「平家物語」を語って広めた人ですが、手に持って弾いている楽器を何といいますか。

(琵琶(びわ))

- (5) このころ、後鳥羽上皇の指示によって編さんされた和歌集を、次の[]から選んで書きなさい。

[万葉集 古今和歌集 新古今和歌集]

(新古今和歌集)

資料1



資料2

平家物語 (冒頭の部分)
祇園精舎の鐘の声、諸行無常の響あり。
娑羅双樹の花の色、盛者必衰のことわりをあらわす。
おごれる人も久しからず、只春の夜の夢のごとし。
たけき者も遂にはほろびぬ、ひとえに風の前の塵に同じ。

資料3



ポイント 琵琶法師は、各地をまわり、琵琶を弾きながら「平家物語」を人々に聞かせた。

知 2 次の表は、鎌倉時代におこった新しい仏教をまとめたものです。これを見て、あとの問いに答えなさい。

宗派	教えを広めた人	教えの内容
浄土宗	A	南無阿弥陀仏を一心に唱えれば、(a)へ行ける。
X	親鸞	Aの教えをつきつめ、阿弥陀仏を信じる心を重視した。
日蓮宗	B	法華経の(b)(南無妙法蓮華経)を唱える。
禅宗	宋西、道元	(c)をすることで、自分の力でさとりを開く。

- (1) 表中のXにあてはまる宗派名を書きなさい。

(浄土真宗(一向宗))

- (2) 表中のA, Bにあてはまる人物名を書きなさい。

(間違えやすい) 親鸞は、法然の弟子で、浄土真宗を広めた。

A (法然) B (日蓮)

- (3) 表中のa~cにあてはまる語句を、次の[]から選んで書きなさい。

[座禅 極楽浄土 題目]

a (極楽浄土) b (題目) c (座禅)



武士の台頭と鎌倉幕府
鎌倉時代の社会と文化

名前

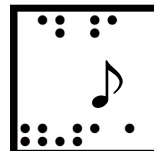
年 組 番

思考・判断・表現 / 4問

技 能 / 1問

知識・理解 / 5問

/ 100点



(各10点)

【問題】 1 次の問いに答えなさい。

問 (1) 鎌倉時代の武士の社会について述べた次のア～エのうち、あやまっているものを2つ選び、記号を書きなさい。

ア 地頭^{じとう}として収入を得ている武士もいた。 イ 惣領^{そうりょう}が中心となって、一族を統率^{とうそつ}した。

ウ 領地は、長子の相続が普通であった。 エ 女性の領地相続は、認められていなかった。

(ウ) (エ)

問 (2) 右の絵は笠懸^{かさかけ}の様子です。この絵を参考にして、次の文の () にあてはまる語句を下のア～ウから1つ選び、記号を書きなさい。

武士たちは「()の道」と呼ばれる武芸の訓練にはげんだ。

ア 弓馬^{きゅうば} イ 刀 ウ 弓矢 (ア)

問 (3) 鎌倉時代の民衆の動きについて述べた次のア～エのうち、あやまっているものを1つ選び、記号を書きなさい。

ア 同じ田畑で米と麦を交互に作る二期作が行われた。 イ 鉄製の農具がいっそう普及した。


ウ 寺社の門前や交通の要所で定期市が開かれた。 エ 草木を焼いた灰が肥料として使われた。

(ア)



【問題】 2 次の資料1～3を見て、あとの問いに答えなさい。

資料1



資料2



資料3



問 (1) 資料1は、鎌倉文化の特徴がよくあらわれている建築です。この門の両側には金剛力士像^{こんこうりきし}が置かれています。この建物の名称^{めいしょう}を書きなさい。【ポイント】 金剛力士像の作者は運慶・快慶^{うんけい}らで、力強い作品を制作した。

(東大寺南大門)

問 (2) 資料2は、親鸞^{しんらん}の肖像画^{しょうざう}です。この人物が開いた新しい仏教の宗派を何といいますか。

(浄土真宗(一向宗))

問 (3) 資料3は、琵琶法師^{びわほうし}をえがいたものです。この人々によって広められた、軍記物の最高傑作^{けっさく}を何といいますか。

(平家物語)

問 (4) いきいきとした民衆の姿を取り上げた随筆^{ずいひつ}「徒然草^{つれづれぐさ}」の作者を次のア～エから1つ選び、記号を書きなさい。【注意！】 鴨長明^{鴨長明}は随筆「方丈記」の作者。

ア 西行^{さいぎょう} イ 藤原定家^{ふじわらのさだいえ} ウ 鴨長明^{鴨長明} エ 兼好法師^{けんこうほうし} (エ)

問 (5) 後鳥羽上皇の命令で編集された歌集の名称を書きなさい。

(新古今和歌集)

問 (6) 鎌倉文化の特色を簡単に書きなさい。

((例) したしみがあ、雄大で、力強い。)

8

武士の台頭と鎌倉幕府

鎌倉時代の社会と文化

名前

年 組 番

/ 13 問

●重要図のポイント● () にあてはまる語句を、[] から選んで書きなさい。

資料 1



① 資料 1 は、(**東大寺南大門**) で、建物の中には、**運慶・快慶**がつくった**金剛力士像**がおさめられている。

[**平等院鳳凰堂** **東大寺南大門**]

注意! 平等院鳳凰堂は、**平安時代**に**藤原頼通**が建てた**阿彌陀堂**。

② 資料 2 の親鸞は、**浄土宗**を開いた**法然**の教えをさらに深め、(**浄土真宗**) を開いた。

[**日蓮宗** **浄土真宗** **禅宗**]

資料 2



資料 3



③ 資料 3 の琵琶法師は、**源平**の合戦と**平家**の滅亡をえがいた (**平家物語**) を語って聞かせ、武士や民衆の間に広めた。

[**平家物語** **源氏物語**]

④ **鎌倉文化**の特徴は、武士の気風を反映して、(**雄大**) で、力強いところである。

[**華麗** **雄大**]

●要点のまとめ● 次の文中の () にあてはまる語句を、下の [] から選んで書きなさい。

■武士の生活

武士は、日ごろから武芸によって心身をきたえた。惣領が中心となって一族を統率し、領地は (**分割相続**) によって女性にもあたえられた。こうした武士の慣習にもとづいて、執権北条泰時が、1232 年に (**御成敗式目**) を定めた。

■民衆の生活

農耕に牛馬が使われ、鉄製の農具が普及した。草や木を焼いた灰が肥料として使用され、米の裏作に麦をつくる (**二毛作**) も行われるようになった。寺社の門前や交通の要地には、(**定期市**) が開かれるようになった。

■新しい仏教の教え

ポイント 新しい仏教は、分かりやすく、実行しやすいので、人々の心をとらえた。

法然は、(**浄土宗**) を開き、念仏を唱えれば極楽浄土に生まれ変わると説いた。その弟子の親鸞は、**浄土真宗** (一向宗) を広めた。また、**日蓮**は**日蓮宗**を開き、**宋**で学んだ**栄西**や**道元**によって (**禅宗**) が伝えられた。

■鎌倉文化

東大寺南大門などの建築や、(**金剛力士像**) などの彫刻など、雄大で力強い文化が生まれた。(**軍記物**) の平家物語が琵琶法師によって広められ、**朝廷**の貴族たちにより (**新古今和歌集**) がまとめられた。

[**禅宗** **浄土宗** **軍記物** **新古今和歌集** **金剛力士像** **定期市** **二毛作** **御成敗式目** (貞永式目) **分割相続**]

8

武士の台頭と鎌倉幕府

鎌倉時代の社会と文化

年 組 番

名前

/ 9 問

図 知 1 下の資料は、武士の館の様子です。これについて、あとの問いに答えなさい。




図 (1) 敵の侵入を防ぐために、館の周りにめぐらされているのは何ですか。次のア～ウから1つ選び、記号を書きなさい。

ア 土かべと竹やぶ イ 板べいと堀 ウ 木のさくと杭

(イ)

図 (2) 馬が飼われていますが、それは何のためですか。「武芸」という語句を用いて、簡単に書きなさい。

((例) 日ごろから武芸の訓練を行うため。)

知 (3) 右の絵は武士の武芸の訓練の様子です。何をしているところですか。

(笠懸)

図 (4) 鎌倉時代の武士の多くは、主にどのようなところに館を構えましたか。

次のア～ウから1つ選び、記号を書きなさい。

ア 城下町 イ 交通の要地 ウ 農村

ポイント 武士は、館の近くの農地を下人に耕作させたり、農民を働かせたりする、村の領主となっていた。

(ウ)



図 知 2 次の問いに答えなさい。

知 (1) 鎌倉時代の文化や宗教について述べた次の文を読み、下線部の語句が正しいものは○を、誤っているものは正しい語句を書きなさい。

① 運慶・快慶は、金剛力士像などの力強い作品をつくった。

(○)

② 法然の弟子の親鸞は、悪人でも仏の救いを受けられると説いて、浄土宗を広めた。

注意! 法然は、念仏を唱えればだれでも極楽に行けるという浄土宗を説いた。

(浄土真宗(一向宗))

③ 鴨長明は、世間に生きる人間のむなしさを「方丈記」にあらわした。

(○)

④ 後鳥羽上皇が中心となって「古今和歌集」が編さんされた。

注意! 「古今和歌集」は、平安時代に紀貫之らが編さんした和歌集。

(新古今和歌集)

図 (2) 平安時代の仏教は、貴族たちを中心に広まりましたが、鎌倉時代の仏教は、武士や民衆の間に広く受け入れられました。その理由を簡単に書きなさい。

((例) 鎌倉時代におこった新しい仏教は、教えがわかりやすく、実行しやすいものだったから。)



武士の台頭と鎌倉幕府 武家政治の始まり

名前

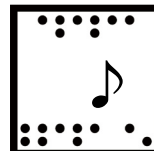
年 組 番

思考・判断・表現 / 3 問

技 能 / 0 問

/ 100 点

知識・理解 / 10 問



(1)(1)(2)(4)は各5点,その他各10点 2各10点 3(1)は10点,(2)(3)は各5点)

知 恩 1 あゆみさんが つくった 次の 人物カードを 見て、あとの 問いに 答えなさい。

よりち 頼朝が 鎌倉幕府を
開いたのは、
1185年(その他 1183年、
1192年などと 考える
説も ある)

A 源 頼朝は、朝廷から X に 任じられ、幕府を 開いた。

平将門の乱は、
935年

B 平 将門は、関東の 武士たちを 率いて、反乱を 起こした。

白河天皇の 生没年
1053～1129年

C 白河天皇は、位を ゆずり 上皇と なった あとも 政治を 行った。

平治の乱は 1156年

D 平清盛は、 Y の乱で 力を 強め、海外との 貿易を 行った。

知 (1) カード A の X、カード D の Y に あてはまる 語句を 書きなさい。

X (征夷大將軍) Y (平 治)

知 (2) カード B の 下線部が 起こった ころ、瀬戸内海 一帯で 反乱を 起こした 人物を、次の ア～ウから 1人 選び、記号を 書きなさい。

ア 藤原道長 イ 藤原純友 ウ 源 義経

(イ)

知 (3) カード C の 下線部のような 政治を 何と いいますか。

(院 政)

知 (4) カード D の 下線部の 貿易を 行う ために 整備した 港を、次の ア～ウから 1つ 選び、記号を 書きなさい。

ア 堺の 港 イ 博多の 港 ウ 兵庫の 港

(ウ)

恩 (5) カード A～D を 年代の 古い 順から 並べ、記号を 書きなさい。

(B → C → D → A)

知 恩 2 右の 図を 見て、次の 問いに 答えなさい。

知 (1) 図中の A に あてはまる、将軍を 補佐する 役職を 何と いいますか。

(執 権)

知 (2) 図中の B に あてはまる、国ごとに 置かれた 役職を 何と いいますか。

(守護)

恩 (3) 図中の a の 主な 仕事は 何ですか。次の ア～ウから 1つ 選び、記号を 書きなさい。

ア 財政と 政治一般 → 政所

イ 荘園の 管理と 年貢 取り立て → 地頭

ウ 朝廷と 西国武士の 監視 → 六波羅探題

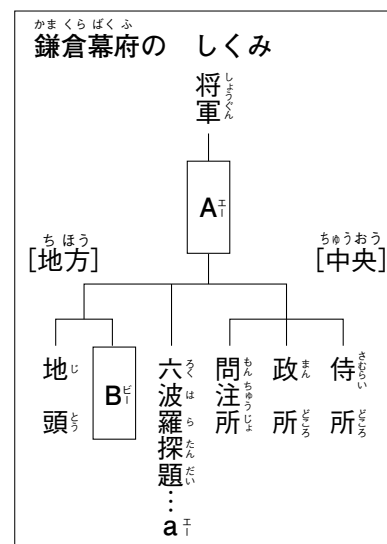
ポイント 承久の乱の 後、幕府は 朝廷や 西国武士を 監視する ために、 六波羅探題を 置いた。

(ウ)

恩 (4) 図中の 将軍と これに 従った 武士とは、御恩と 奉公の 関係で 結ばれて いました。その うちの「御恩」の 内容を、簡単に 書きなさい。

((例) 将軍が 配下の 武士に 対して、先祖伝来の 領地を 保護し、手柄を たてると 新しい 領地を あたえる こと。)

守護や 地頭に 任命される ことが 書かれて いても 正答と する。



知 3 次の問いに答えなさい。

- (1) 右の資料は、鎌倉幕府が定めた武士の法律です。この法律を何といいますか。

(御成敗式目 (貞永式目))

- (2) この法律を定めた幕府の執権は、だれですか。次のア～ウから1人を選び、記号を書きなさい。

ア 北条時政 イ 北条泰時 ウ 北条時宗

注意! 北条時政は 鎌倉幕府の 初代執権で、北条政子の父。
北条時宗は 元寇の時の執権。

(イ)

- (3) 資料の には、地名が当てはまります。この地名を書きなさい。

(京 都)

一 諸国の守護の職務は、
頼朝公の時代に
定められたように、の
御所の警備と、謀反や殺人などの
犯罪人の取りしまりに限る。
一 武士が20年の間、実際に
土地を支配して いるならば、
その権利を認める。
(部分要約)



武士の台頭と鎌倉幕府
鎌倉時代の社会と文化

名前

年 組 番

思考・判断・表現 / 4 問

技 能 / 1 問

知識・理解 / 5 問



(各10点)

図 1 次の問いに答えなさい。

図 (1) 鎌倉時代の武士の社会について述べた次のア～エのうち、あやまって いる ものを 2つ 選び、記号を書きなさい。

ア 地頭として 収入を得て いる 武士も いた。 イ 惣領が 中心と なって、一族を 統率した。

ウ 領地は、長子の 相続が 普通であった。 エ 女性の 領地相続は、認められて いなかった。

(ウ) (エ)

図 (2) 右の絵は 笠懸の 様子です。この 絵を 参考に して、次の 文の () に

あてはまる 語句を 下の ア～ウから 1つ 選び、記号を 書きなさい。

武士たちは「()の 道」と 呼ばれる 武芸の 訓練に はげんだ。

ア 弓馬 イ 刀 ウ 弓矢 (ア)

図 (3) 鎌倉時代の 民衆の 動きについて 述べた 次の ア～エのうち、あやまって いる ものを 1つ 選び、記号を 書きなさい。

ア 同じ 田畑で 米と 麦を 交互に 作る 二期作が 行われた。 イ 鉄製の 農具が いっそう 普及した。

ウ 寺社の 門前や 交通の 要所で 定期市が 開かれた。 エ 草木を 焼いた 灰が 肥料として 使われた。

(ア)





図 2 次の 資料1～3を 見て、あとの 問いに 答えなさい。

資料 1



資料 2



資料 3



知 (1) 資料 1 は、鎌倉文化の 特徴が よく あらわれて いる 建築です。この 門の 両側には 金剛力士像が 置かれて います。この 建物の 名称を 書きなさい。

ポイント 金剛力士像の 作者は 運慶・快慶らで、力強い 作品を 制作した。

(東大寺南大門)

知 (2) 資料 2 は、親鸞の 肖像画です。この 人物が 開いた 新しい 仏教の 宗派を 何と いいますか。

(浄土真宗 (一向宗))

知 (3) 資料 3 は、琵琶法師を えがいた ものです。この 人々に よって 広められた、軍記物の 最高傑作を 何と いいますか。

(平家物語)

知 (4) いきいきと した 民衆の 姿を 取り上げた 随筆「徒然草」の 作者を 次の ア～エから 1つ 選び、記号を 書きなさい。

注意! 鴨長明は 随筆「方丈記」の 作者。

ア 西行 イ 藤原定家 ウ 鴨長明 エ 兼好法師 (エ)

知 (5) 後鳥羽上皇の 命令で 編集された 歌集の 名称を 書きなさい。

(新古今和歌集)

図 (6) 鎌倉文化の 特色を 簡単に 書きなさい。

((例) したしみが あり、雄大で、力強い。)