

17

武士の台頭と鎌倉幕府

武士の成長

名前

年 組 番

／9問

知 1 次の問いに答えなさい。

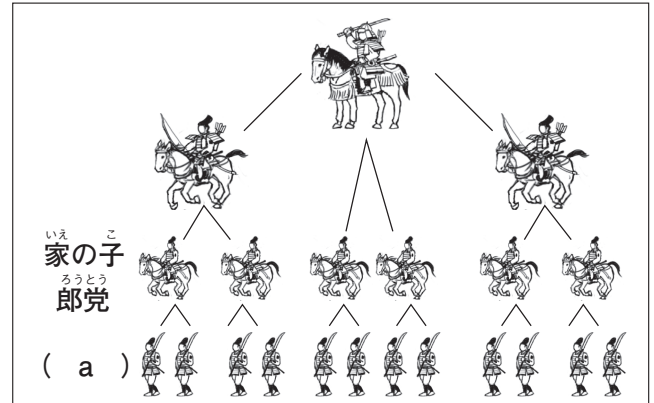
(1) 平安時代の中ごろ，地方の豪族と中央の武官の交流のなかから，武装した集団があらわれました。この人々を何といいますか。

()

(2) 右の図は，多くの家来を従えて成長した武士団の仕組みです。aにあてはまる語句を，次のア～エからそれぞれ1つ選び，記号を書きなさい。

ア 棟梁 イ 下人 ウ 惣領 エ 郡司

()



(3) 次の①・②にあてはまる人物を，あとの〔 〕から選んで書きなさい。

① 935年，関東地方で反乱を起こし，一時期この一帯を支配したが，940年にたおされた。

② 939年，瀬戸内海一帯で反乱を起こしたが，941年に平定された。

〔 菅原道真 平将門 藤原道長 藤原純友 〕

① () ② ()

(4) 次の文中の (A) ・ (B) にあてはまる氏の名を書きなさい。

成長した武士団のなかでは，天皇の子孫とされる (A) と (B) が有力となり，11世紀後半には (A) が東国に，12世紀前半には (B) が西国に勢力をのぼした。

A () B ()

知 2 次の問いに答えなさい。

(1) 11世紀後半には，武士同士の大きな戦乱がきましたが，この後，東北地方では平泉を中心とした奥州藤原氏が力を持ちました。右の図から平泉の位置を選び，記号を書きなさい。

()

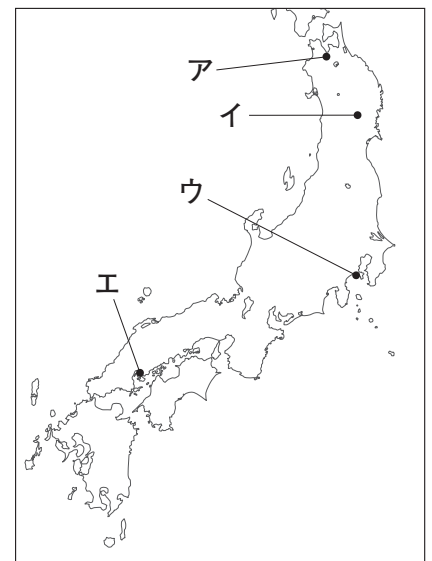
(2) 奥州藤原氏が建てた寺などは現在ものこり，その文化財や庭園は2011年に世界遺産に登録されています。奥州藤原氏が建てた寺を，次のア～エから1つ選び，記号を書きなさい。

ア 東大寺 イ 法隆寺 ウ 中尊寺 エ 唐招提寺

()

(3) 地方の武士は，地位や武力を利用し土地の開発を進め，領地を都の貴族，寺や神社などに寄進しました。こうした土地を何といいますか。漢字2文字で書きなさい。

()



18

武士の台頭と鎌倉幕府

武士の政権の成立

名前

年 組 番

／9問

知 1 次の問いに答えなさい。

(1) 1086年、白河天皇は、天皇の位をゆずって上皇となっても、上皇の御所で政治を行いました。この政治を何といいますか。

()

(2) 下の絵は、「平治の乱」の様子をあらわしたものです。これについて、あとの問いに答えなさい。



① この乱は、平清盛と源義朝の勢力争いに貴族をまきこんで起こりました。戦いに勝ったのは、どちらの人物ですか。

()

② (1)の人物は、武士として初めて (X) となり、政治の実権をにぎりました。(X) にあてはまる語句を、次の [] から選んで書きなさい。

[摂政 征夷大將軍 太政大臣 関白]

()

③ (1)の人物は、兵庫の港を整備し、中国の宋と貿易を行いました。この港は、現在の何市にありましたか。

()

知 2 右の地図を見て、次の問いに答えなさい。

① 地図の凡例 A, B は、それぞれの氏の勢力範囲を示しています。それぞれにあてはまる氏を書きなさい。

A () B ()

② 鎌倉の位置を示しているものを、右の図のア～エから1つ選び、記号を書きなさい。

()

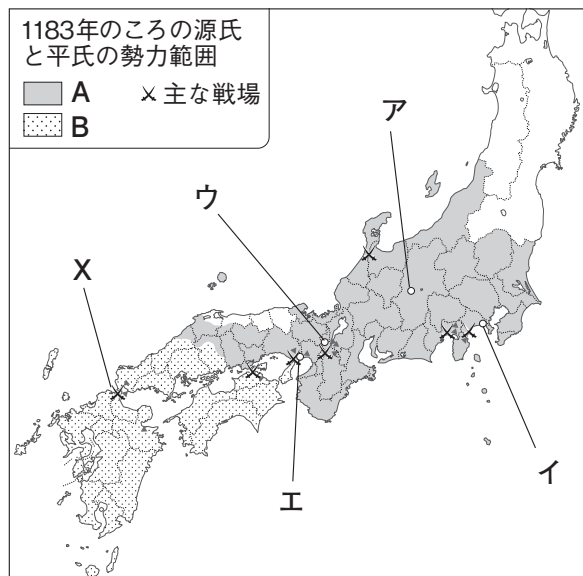
③ X は、源氏が平氏を滅ぼすことになった戦いです。この戦いの名称を、次のア～エから1つ選び、記号を書きなさい。

ア 富士川の戦い イ 一ノ谷の戦い
ウ 壇ノ浦の戦い エ 屋島の戦い

()

④ X の戦いで活躍した源氏の武士はだれですか。

()



19

武士の台頭と鎌倉幕府

鎌倉幕府の成立

名前

年 組 番

/ 12 問

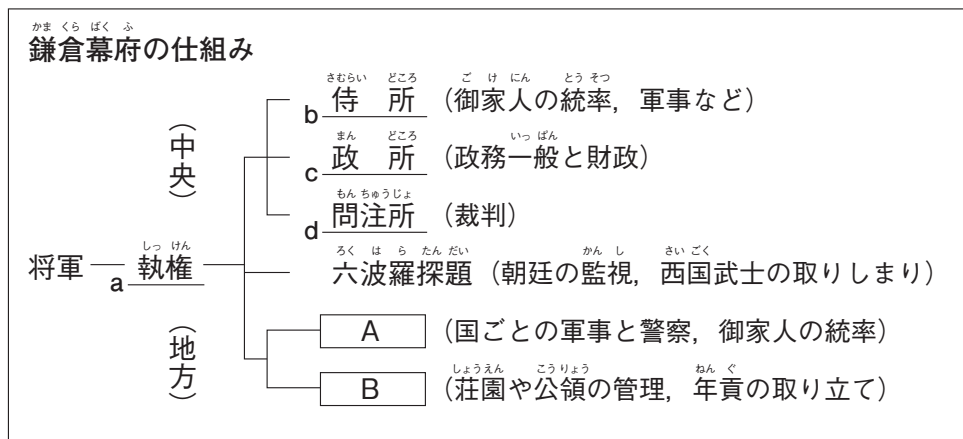
知 1 次の問いに答えなさい。

- (1) 平氏を滅ぼし、鎌倉を本拠地として幕府を開いた人物はだれですか。 ()
- (2) 鎌倉幕府を開いた人物が朝廷から任命された役職を、次の [] から選んで書きなさい。
[太政大臣 征夷大將軍 関白] ()
- (3) 鎌倉幕府の将軍に忠誠をちかい、御恩と奉公の関係で結ばれた武士を何といいますか。 ()
- (4) 1221 (承久 3) 年、朝廷が勢力の回復をはかって、幕府討伐の兵を挙げました。この乱を起こした人物を、次の [] から選んで書きなさい。
[後鳥羽上皇 白河上皇 後白河上皇] ()
- (5) 承久の乱が起こったとき、鎌倉幕府の初代将軍の妻が武士たちに将軍の御恩を説いて、結束して立ち向かうように訴えかけました。その人物はだれですか。 ()

知 2 右の図を見て、次の問いに答えなさい。

知 (1) 図中の下線部 a の役職に代々ついて、幕府の政治を動かしたのは、何氏ですか。 ()

知 (2) 図中の下線部 b ~ d の役所は、どこに置かれましたか。 ()



知 (3) 図中の A, B にあてはまる語句を、それぞれ書きなさい。

A () B ()

知 3 次の資料を読んで、あとの問いに答えなさい。

御成敗式目 (部分要約)

- 諸国の守護の職務は、頼朝公の時代に定められたように、(A)の御所の警備と、謀反や殺人などの犯罪人の取りしまりに限る。
- 武士が 20 年の間、実際に土地を支配しているならば、その権利を認める。
- 女性が養子をとることは、B 律令では許されていないが、頼朝公のとき以来現在に至るまで、子どものない女性が土地を養子にゆずりあたえる事例は、武士の慣習として数え切れない。

知 (1) 資料中の (A) にあてはまる地名を書きなさい。 ()

知 (2) 資料中の下線部 B の法律は、どこが定めたものですか。次の [] から選んで書きなさい。

[朝廷 政所 問注所]

()

知 (3) この御成敗式目を定めた人物を、次の [] から選んで書きなさい。

[源頼朝 北条政子 北条泰時]

()



武士の台頭と鎌倉幕府 武家政治の始まり

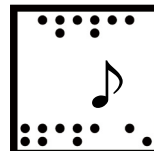
名前

年 組 番

思考・判断・表現 / 3 問

技 能 / 0 問

/ 100 点 知識・理解 / 10 問



(1)(1)(2)(4)は各5点,その他各10点 2各10点 3(1)は10点,(2)(3)は各5点)

知 恵 1 あゆみさんがつくった次の人物カードを見て、あとの問いに答えなさい。

A ^{みなもと}源頼朝は、^{ちやうてい}朝廷から に任じられ、^{ばくふ}幕府を開いた。

B ^{たいらのまさかど}平将門は、関東の武士たちを^{ひき}率いて、反乱を起こした。

C ^{しらかわ}白河天皇は、位をゆずり上皇となったあとも政治を行った。

D ^{きよもり}平清盛は、 の乱で力を強め、海外との貿易を行った。

知 (1) カード A の X, Y にあてはまる語句を書きなさい。

X () Y ()

知 (2) カード B の下線部が起こったころ、^{せ と ないかい}瀬戸内海一帯で反乱を起こした人物を、次のア～ウから 1 人選び、記号を書きなさい。

ア ^{ふじわらのみちなが}藤原道長 イ ^{すみとも}藤原純友 ウ ^{よしつね}源義経

()

知 (3) カード C の下線部のような政治を何といいますか。

()

知 (4) カード D の下線部の貿易を行うために整備した港を、次のア～ウから 1 つ選び、記号を書きなさい。

ア ^{さかい}堺の港 イ ^{はかた}博多の港 ウ ^{ひょうご}兵庫の港

()

恵 (5) カード A ～ D を年代の古い順から並べ、記号を書きなさい。

(→ → →)

知 恵 2 右の図を見て、次の問いに答えなさい。

知 (1) 図中の A にあてはまる、将軍を補佐する役職を何といいますか。

()

知 (2) 図中の B にあてはまる、国ごとに置かれた役職を何といいますか。

()

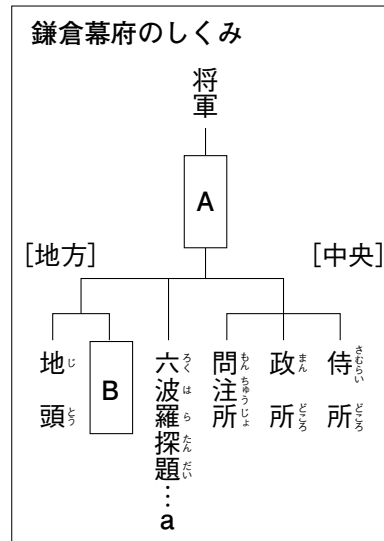
恵 (3) 図中の a の主な仕事は何ですか。次のア～ウから 1 つ選び、記号を書きなさい。

ア ^{いっばん}財政と政治一般
イ ^{しやうえん}荘園の管理と年貢取り立て
ウ ^{さいごく}朝廷と^{かんし}西国武士の監視

()

恵 (4) 図中の将軍とこれに従った武士とは、^{しやうぐん}御恩と^{こ おん}奉公の^{ほうこう}関係で結ばれていました。そのうちの「御恩」の内容を、簡単に書きなさい。

()



知 3 次の問いに答えなさい。

(1) 右の資料は、鎌倉幕府が定めた武士の法律です。この法律を何
とといいますか。

()

(2) この法律を定めた幕府の執権は、だれですか。次のア～ウから 1
人選び、記号を書きなさい。

ア 北条時政 イ 北条泰時 ウ 北条時宗

()

(3) 資料の X には、地名があてはまります。この地名を書きな
さい。

()

一 諸国の守護の職務は、頼朝公の時代に定められたように、X の御所の警備と、謀反や殺人などの犯罪人の取りしまりに限る。

一 武士が 20 年の間、実際に土地を支配しているならば、その権利を認める。

(部分要約)

7

武士の台頭と鎌倉幕府

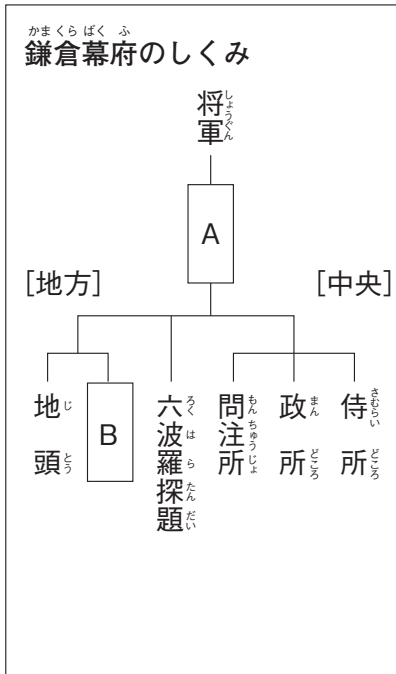
武家政治の始まり

名前

年 組 番

/ 14 問

●重要図のポイント● () にあてはまる語句を, [] から選んで書きなさい。



① **A** は, 将軍を補佐する仕事を行った()で, 北条氏が代々受けついだ。

[摂政 関白 執権]

② **B** は, 国ごとに置かれた()で, 領国内の軍事・警察の仕事にあたった。

[守護 国司 里長]

③ 幕府は, 後鳥羽上皇が幕府をたおそうとして起こした承久の乱をしずめたあと, 朝廷の監視と西国武士の統制のために, 京都に()を置いた。

[大宰府 六波羅探題 鎌倉府]

●要点のまとめ● 次の文中の()にあてはまる語句を, 下の[]から選んで書きなさい。

武士の登場

平安時代の中ごろ, 地方では有力者が開墾にはげんで豪族となり, 中央では朝廷の武官が貴族の警護を行い, 実力を認められていった。この地方の豪族と中央の武官の交流のなかから()がおり, 従者を組織して武士団をつくった。10 世紀の中ごろ, 関東では()が, 瀬戸内海一帯では藤原純友が反乱をおこした。

武士の成長と院政

武士の力を利用して新しい政治を行ったのが()で, 位をゆずって上皇となっても政治を行った。この政治を()という。

平氏の政権

平治の乱で源氏を破った()は, 武士としてはじめて太政大臣となり, 政治の実権をにぎった。また, ()を整備し, 中国との貿易を行った。

鎌倉幕府の成立

平氏の滅亡後, ()は, 国ごとに(), 荘園や公領ごとに()を置くことを朝廷に認めさせた。そして, 征夷大将軍に任じられて, 鎌倉に幕府を開いた。

執権政治の開始

鎌倉幕府で実権をにぎった北条氏は, 代々()の役職について政治を行った。後鳥羽上皇は, 幕府をたおそうとして()を起こしたが, 幕府の大軍に敗れた。

[執権 守護 地頭 承久の乱 兵庫の港 院政 武士
源頼朝 平清盛 平将門 白河天皇]

7	武士の台頭と鎌倉幕府 武家政治の始まり	年 組 番 名前	/ 12 問
---	-------------------------------	-----------------	--------

知 思 1 右の年表を見て、次の問いに答えなさい。

知 (1) 年表中の A が起こったところ、関東で反乱を起こした人物は、だれですか。

()

思 (2) 年表中の下線部 a は、どのような政治のしくみですか。簡単に書きなさい。

()

知 (3) 年表中の下線部 b の人物は、朝廷の何という役職について政治を動かしましたか。

()

知 (4) 年表中の B の最後の戦いは、どこで起きましたか。次のア～エから 1 つ選び、記号を書きなさい。

ア 屋島 イ 壇ノ浦 ウ 一の谷 エ 富士川

()

知 (5) (4)の戦いで活躍した源義経は、平氏の滅亡後、頼朝に追われました。頼朝は義経をとらえることを口実に、朝廷に 2 つの役職を認めさせました。これらの役職を書きなさい。

() ()

知 (6) 年表中の下線部 c と主従関係を結んだ武士を、何といいますか。

()

知 思 2 右の資料は、承久の乱が起きたときの幕府の記録の一部です。これについて、次の問いに答えなさい。

知 (1) 資料中の下線部 a は、ある人物の妻です。ある人物とは、だれですか。

()

知 (2) 資料中の下線部 b のように、将軍から受けた恩を何といいますか。漢字 2 字で書きなさい。

()

知 (3) 資料中の下線部 c のように、将軍の恩に報いることを何といいますか。漢字 2 字で書きなさい。

()

思 (4) 資料中の下線部 d にいた、相手側の中心人物はだれですか。次のア～ウから 1 人選び、記号を書きなさい。

ア 白河上皇 イ 藤原道長 ウ 後鳥羽上皇

()

思 (5) この乱の結果、朝廷の勢力と幕府の勢力の関係はどうなりましたか。簡単に書きなさい。

()

年代	できごと
939	ふじわらのすみとも 藤原純友が反乱を起こす…………… A
1086	しらかわじょうこう 白河上皇の a 院政が始まる
1159	へいじ 平治の乱が起こる
1167	たいらのきよもり b 平清盛が政治の実権をにぎる
1185	へいし 平氏が滅びる…………… B
1192	みなもとよりとも 源頼朝が c 征夷大將軍となる
1221	じょうきゅう 承久の乱が起こる

ほうじょうまさこ
a 北条政子のうったえ

みなの方、よく聞きなさい。
これが最後の言葉です。頼朝
公が朝廷の敵をたおし、幕府
を開いてこのかた、官職とい
い、土地といい、b その恩は
山より高く、海より深いもの
でした。c みなそれぞれに報い
たいという志はきっと浅くな
いはずで。名誉を大事にする
者は、d 京都に向かって出
陣し、逆臣をうち取り、幕府
を守りなさい。(吾妻鏡)

20

武士の台頭と鎌倉幕府

武士と民衆の生活

年 組 番

名前

／11問

図 1 下の絵を見て、あとの問いに答えなさい。




図 (1) 絵にえがかれている A～F のことがらを、次の [] から選んで書きなさい。

[弓矢の手入れ 見張り 馬の世話 板ぶきの屋敷 貢ぎ物を受け取る 板べい]

A () B () C ()
D () E () F ()

図 (2) この時代のことについて、書かれた文であやまっているものを、次のア～エから1つ選び、記号を書きなさい。

- ア 武士の領地は、^{ぶんかつ}分割相続であった。
- イ 京都に住んで、^{きやうと}豊かな生活を送る武士が生まれた。
- ウ 土地に対して^{じとう}地頭の権力が強くなった。
- エ 女性の地頭は、ほとんどいなかった。

()

図 2 次の文を読んで、あとの問いに答えなさい。

鎌倉時代の中ごろから、農業生産が高まった。田を耕すために (A) が利用され、鉄製の農具がいっそう普及し、草や木の灰が (B) として使われるようになった。また、a ^{うらさく}米の裏作に麦をつくらることが広まった。

生産力が高まると商業が盛んになり、寺社の門前や交通の便利なところで (C) が開かれるようになり、人々が集まって町が生まれた。

図 (1) 文中の () にあてはまる語句を、次の [] から1つずつ選んで書きなさい。

[定期市 肥料 牛馬]

A () B () C ()

図 (2) 文中の下線部 a の耕作の方法を何といいますか。

()

21

武士の台頭と鎌倉幕府

鎌倉時代の文化と宗教

名前

年 組 番

／11問

知 1 次の問いに答えなさい。

- (1) 資料1は、東大寺南大門にある運慶・快慶たちがつくった彫刻作品をえがいたものです。この作品を何といいますか。

()

- (2) 東大寺は平氏に焼かれたのち、鎌倉時代の初めに再建されましたが、建築には中国から新しい様式が取り入れられました。そのときの中国の王朝名を、次の〔 〕から選んで書きなさい。

〔 唐 宋 元 〕

()

- (3) 資料2には、漢語と口語をまじえた文章で源平の戦いの様子などが力強くえがかれています。このような文学作品を何といいますか。

()

- (4) 資料3は、資料2の「平家物語」を語って広めた人ですが、手に持って弾いている楽器を何といいますか。

()

- (5) このころ、後鳥羽上皇の指示によって編さんされた和歌集を、次の〔 〕から選んで書きなさい。

〔 万葉集 古今和歌集 新古今和歌集 〕

()

資料1



資料2

平家物語（冒頭の部分）
祇園精舎の鐘の聲、諸行無常の響あり。
娑羅双樹の花の色、盛者必衰のことわりをあらわす。
おごれる人も久しからず、只春の夜の夢のごとし。
たけき者も遂にはほろびぬ、ひとえに風の前の塵に同じ。

資料3



知 2 次の表は、鎌倉時代におこった新しい仏教をまとめたものです。これを見て、あとの問いに答えなさい。

宗派	教えを広めた人	教えの内容
浄土宗	A	南無阿弥陀仏を一心に唱えれば、(a)へ行ける。
X	親鸞	Aの教えをつきつめ、阿弥陀仏を信じる心を重視した。
日蓮宗	B	法華經の(b) (南無妙法蓮華經)を唱える。
禅宗	宋西、道元	(c)をすることで、自分の力でさとりを開く。

- 知 (1) 表中のXにあてはまる宗派名を書きなさい。

()

- 知 (2) 表中のA, Bにあてはまる人物名を書きなさい。

A () B ()

- 知 (3) 表中のa～cにあてはまる語句を、次の〔 〕から選んで書きなさい。

〔 座禅 極楽浄土 題目 〕

a () b () c ()



武士の台頭と鎌倉幕府
鎌倉時代の社会と文化

名前

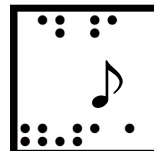
年 組 番

思考・判断・表現 / 4 問

技 能 / 1 問

知識・理解 / 5 問

/ 100 点



(各10点)

【問題】 1 次の問いに答えなさい。

問 (1) 鎌倉時代の武士の社会について述べた次のア～エのうち、あやまっているものを2つ選び、記号を書きなさい。

ア 地頭^{じとう}として収入を得ている武士もいた。 イ 惣領^{そうりょう}が中心となって、一族を統率^{とうそつ}した。

ウ 領地は、長子の相続が普通であった。 エ 女性の領地相続は、認められていなかった。

() ()

問 (2) 右の絵は笠懸^{かさかけ}の様子です。この絵を参考にして、次の文の () にあてはまる語句を下のア～ウから1つ選び、記号を書きなさい。

武士たちは「()の道」と呼ばれる武芸の訓練にはげんだ。


ア 弓馬^{きうば} イ 刀 ウ 弓矢 ()

問 (3) 鎌倉時代の民衆の動きについて述べた次のア～エのうち、あやまっているものを1つ選び、記号を書きなさい。

ア 同じ田畑で米と麦を交互に作る二期作が行われた。 イ 鉄製の農具がいっそう普及した。


ウ 寺社の門前や交通の要所で定期市が開かれた。 エ 草木を焼いた灰が肥料として使われた。

()



【問題】 2 次の資料1～3を見て、あとの問いに答えなさい。

資料 1



資料 2



資料 3



知 (1) 資料1は、鎌倉文化の特徴がよくあらわれている建築です。この門の両側には金剛力士像^{こんごうりきし}が置かれています。この建物の名称^{めいしやう}を書きなさい。

()

知 (2) 資料2は、親鸞^{しんらん}の肖像画^{しやうざう}です。この人物が開いた新しい仏教の宗派を何といいますか。

()

知 (3) 資料3は、琵琶法師^{びわほうし}をえがいたものです。この人々によって広められた、軍記物の最高傑作^{けっさく}を何といいますか。

()

知 (4) いきいきとした民衆の姿を取り上げた随筆^{ずいひつ}「徒然草^{つれづれぐさ}」の作者を次のア～エから1つ選び、記号を書きなさい。

ア 西行^{さいぎやう} イ 藤原定家^{ふじわらのさだいえ} ウ 鴨長明^{かもちやうめい} エ 兼好法師^{けんこうほうし}

()

知 (5) 後鳥羽上皇の命令で編集された歌集の名称を書きなさい。

()

問 (6) 鎌倉文化の特色を簡単に書きなさい。

()

8

武士の台頭と鎌倉幕府

鎌倉時代の社会と文化

名前

年 組 番

/ 13 問

●重要図のポイント● () にあてはまる語句を, [] から選んで書きなさい。

資料 1



① 資料 1 は, () で, 建物の中には, 運慶・快慶がつくった金剛力士像がおさめられている。

[平等院鳳凰堂 東大寺南大門]

② 資料 2 の親鸞は, 浄土宗を開いた法然の教えをさらに深め, () を開いた。

[日蓮宗 浄土真宗 禅宗]

資料 2



資料 3



③ 資料 3 の琵琶法師は, 源平の合戦と平家の滅亡をえがいた () を語って聞かせ, 武士や民衆の間に広めた。

[平家物語 源氏物語]

④ 鎌倉文化の特徴は, 武士の気風を反映して, () で, 力強いところである。

[華麗 雄大]

●要点のまとめ● 次の文中の () にあてはまる語句を, 下の [] から選んで書きなさい。

■武士の生活

武士は, 日ごろから武芸によって心身をきたえた。惣領が中心となって一族を統率し, 領地は () によって女性にもあたえられた。こうした武士の慣習にもとづいて, 執権北条泰時が, 1232 年に () を定めた。

■民衆の生活

農耕に牛馬が使われ, 鉄製の農具が普及した。草や木を焼いた灰が肥料として使用され, 米の裏作に麦をつくる () も行われるようになった。寺社の門前や交通の要地には, () が開かれるようになった。

■新しい仏教の教え


法然は, () を開き, 念仏を唱えれば極楽浄土に生まれ変わると説いた。その弟子の親鸞は, 浄土真宗 (一向宗) を広めた。また, 日蓮は日蓮宗を開き, 宋で学んだ栄西や道元によって () が伝えられた。

■鎌倉文化

東大寺南大門などの建築や, () などの彫刻など, 雄大で力強い文化が生まれた。() の平家物語が琵琶法師によって広められ, 朝廷の貴族たちにより () がまとめられた。

[禅宗 浄土宗 軍記物 新古今和歌集 金剛力士像 定期市
二毛作 御成敗式目 (貞永式目) 分割相続]

【思 知 1】 下の資料は、武士の館の様子です。これについて、あとの問いに答えなさい。



⑧ (1) 敵の侵入を防ぐために、館の周りにめぐらされているのは何ですか。次のア～ウから 1 つ選び、記号を書きなさい。

ア 土かべと竹やぶ イ 板べいと堀^{ほり} ウ 木のさくと杭^{くい}

()

【思】(2) 馬が飼われていますが、それは何のためですか。「武芸」という語句を用いて、簡単に書きなさい。

【知】(3) 右の絵は武士の武芸の訓練の様子です。何をしているところですか。

 (\quad)

④ ^{かまくら}鎌倉時代の武士の多くは、主にどのようなところに館を構えましたか。

次のア～ウから1つ選び，記号を書きなさい。

ア 城下町 イ 交通の要地 ウ 農村

()



知 思 2 次の問いに答えなさい。

図(1) 鎌倉時代の文化や宗教について述べた次の文を読み、下線部の語句が正しいものは○を、誤っているものは正しい語句を書きなさい。

① 運慶・快慶は、金剛力士像などの力強い作品をつくった。

()

② 法然ほうねんの弟子の親鸞しんらんは、悪人でも仏の救いを受けられると説いて、浄土宗を広めた。

()

③ かも鴨長明^{のちやうめい}は、世間に生きる人間のむなしさを「ほうじょうき方丈記^{ほうじょうき}」にあらわした。

()

④ ^{ご と ばじゅうこう}後鳥羽上皇が中心となって「^{こ きん わ か しゅう}古今和歌集」が編さんされた。

()

【問2】 平安時代の仏教は、貴族たちを中心に広まりましたが、鎌倉時代の仏教は、武士や民衆の間に広く受け入れられました。その理由を簡単に書きなさい。



武士の台頭と鎌倉幕府 武家政治の始まり

名前

年 組 番

思考・判断・表現 / 3 問

技 能 / 0 問

/ 100 点 知識・理解 / 10 問



(1)(2)(4)は各5点,その他各10点 2各10点 3(1)は10点,(2)(3)は各5点)

知 恩 1 あゆみさんが つくった 次の 人物カードを 見て、あとの 問いに 答えなさい。

A 源 頼朝は、朝廷から X に 任じられ、幕府を 開いた。

B 平 将門は、関東の 武士たちを 率いて、反乱を 起こした。

C 白河天皇は、位を ゆずり 上皇と なった あと 政治を 行った。

D 平清盛は、Y の乱で 力を 強め、海外との 貿易を 行った。

知 (1) カード A の X, カード D の Y に あてはまる 語句を 書きなさい。
(X () Y ())

知 (2) カード B の 下線部が 起こった ころ、瀬戸内海 一帯で 反乱を 起こした 人物を、次の ア～ウから 1 人 選び、記号を 書きなさい。

ア 藤原道長 イ 藤原純友 ウ 源 義経

知 (3) カード C の 下線部のような 政治を 何と いいますか。
()

知 (4) カード D の 下線部の 貿易を 行う ために 整備した 港を、次の ア～ウから 1 つ 選び、記号を 書きなさい。

ア 堺の 港 イ 博多の 港 ウ 兵庫の 港

恩 (5) カード A～D を 年代の 古い 順から 並べ、記号を 書きなさい。
(→ → →)

知 恩 2 右の 図を 見て、次の 問いに 答えなさい。

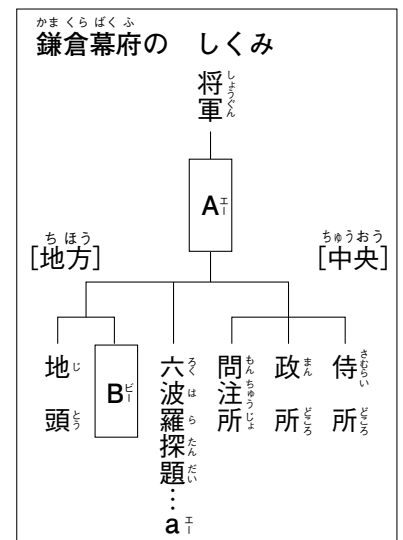
知 (1) 図中の A に あてはまる、将軍を 補佐する 役職を 何と いいますか。
()

知 (2) 図中の B に あてはまる、国ごとに 置かれた 役職を 何と いいますか。
()

恩 (3) 図中の a の 主な 仕事は 何ですか。次の ア～ウから 1 つ 選び、記号を 書きなさい。

ア 財政と 政治一般
イ 荘園の 管理と 年貢 取り立て
ウ 朝廷と 西国武士の 監視

恩 (4) 図中の 将軍と これに 従った 武士とは、御恩と 奉公の 関係で 結ばれて いました。その うちの「御恩」の 内容を、簡単に 書きなさい。
()



知 3 次の問いに答えなさい。

(1) 右の資料は、鎌倉幕府が定めた武士の法律です。この法律を
何と いいますか。

()

(2) この法律を定めた幕府の執権は、だれですか。次のア～ウから
1人 選び、記号を 書きなさい。

ア 北条時政 イ 北条泰時 ウ 北条時宗

()

(3) 資料の には、地名が あてはまります。この 地名を
書きなさい。

()

いち しょこく しゆご しょくむ
一 諸国の 守護の 職務は、
よりともこう じだい
頼朝公の 時代に
さだめられたように、 の
ごしょ けいび おほん さつじん
御所の 警備と、謀反や 殺人などの
はんざいにん と
犯罪人の 取りしまりに 限る。
いち ぶ し ねん あいだ じっさい
一 武士が 20 年の 間、実際に
とち しはい
土地を 支配して いるならば、
その けんり みと
その 権利を 認める。
(部分要約)



武士の台頭と鎌倉幕府
鎌倉時代の社会と文化

名前

年 組 番

思考・判断・表現 / 4 問

技 能 / 1 問

知識・理解 / 5 問

/ 100 点



(各10点)

【問 1】 次の 問いに 答えなさい。

【問 (1)】 鎌倉時代の 武士の 社会について 述べた 次の ア～エの うち、あやまって いる ものを 2つ 選び、記号を 書きなさい。

ア 地頭として 収入を 得て いる 武士も いた。 イ 惣領が 中心と なって、一族を 統率した。

ウ 領地は、長子の 相続が 普通であった。 エ 女性の 領地相続は、認められて いなかった。

() ()

【問 (2)】 右の 絵は 笠懸の 様子です。この 絵を 参考に して、次の 文の () に あてはまる 語句を 下の ア～ウから 1つ 選び、記号を 書きなさい。

武士たちは「()の 道」と 呼ばれる 武芸の 訓練に はげんだ。


ア 弓馬 イ 刀 ウ 弓矢 ()

【問 (3)】 鎌倉時代の 民衆の 動きについて 述べた 次の ア～エのうち、あやまって いる ものを 1つ 選び、記号を 書きなさい。

ア 同じ 田畑で 米と 麦を 交互に 作る 二期作が 行われた。 イ 鉄製の 農具が いっそう 普及した。


ウ 寺社の 門前や 交通の 要所で 定期市が 開かれた。 エ 草木を 焼いた 灰が 肥料として 使われた。

()



【問 2】 次の 資料1～3を 見て、あとの 問いに 答えなさい。

資料 1



資料 2



資料 3



【問 (1)】 資料 1 は、鎌倉文化の 特徴が よく あらわれて いる 建築です。この 門の 両側には 金剛力士像が 置かれて います。この 建物の 名称を 書きなさい。

()

【問 (2)】 資料 2 は、親鸞の 肖像画です。この 人物が 開いた 新しい 仏教の 宗派を 何と いいますか。

()

【問 (3)】 資料 3 は、琵琶法師を えがいた ものです。この 人々によって 広められた、軍記物の 最高傑作を 何と いいますか。

()

【問 (4)】 いきいきと した 民衆の 姿を 取り上げた 随筆「徒然草」の 作者を 次の ア～エから 1つ 選び、記号を 書きなさい。

ア 西行 イ 藤原定家 ウ 鴨長明 エ 兼好法師 ()

【問 (5)】 後鳥羽上皇の 命令で 編集された 歌集の 名称を 書きなさい。

()

【問 (6)】 鎌倉文化の 特色を 簡単に 書きなさい。

()