

20	世界の諸地域 アジア州	年 組 番	/ 25 問
	東アジア	名前	

知 1 右の地図を見て、次の問いに答えなさい。

(1) 地図中の①～⑤の国名と⑥の地域名を、それぞれ書きなさい。

- ① (モンゴル)
 ② (中国 (中華人民共和国))
 ③ (北朝鮮 (朝鮮民主主義人民共和国))
 ④ (韓国 (大韓民国))
 ⑤ (日本)
 ⑥ (台湾)

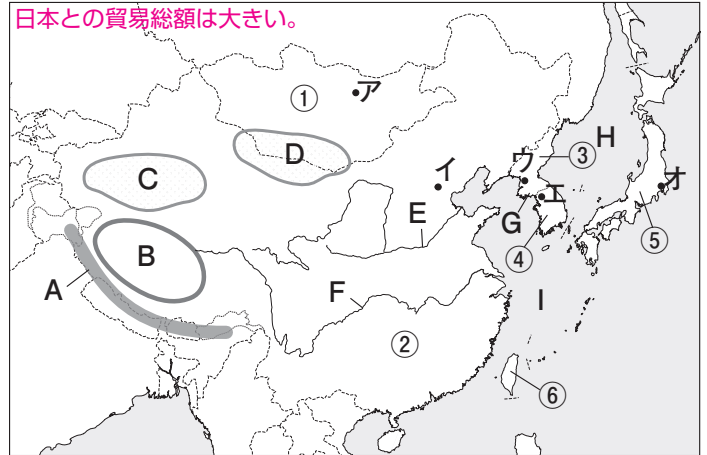
(2) 地図中のア～オは、①～⑤の国の首都を示しています。それぞれの都市名を書きなさい。

- ア (ウランバートル) イ (ペキン) ウ (ピョンヤン)
 エ (ソウル) オ (東京)

(3) 地図中のAの山脈名、Bの高原名、C・Dの砂漠名、E・Fの河川名、Gの半島名、H・Iの海の名を、それぞれ書きなさい。

- A (ヒマラヤ) 山脈 B (チベット) 高原 C (タクラマカン) 砂漠
 D (ゴビ) 砂漠 E (黄河(ホワンホー)) F (長江(チャンチアン))
 G (朝鮮) 半島 H (日本海) I (東シナ海)

【注意!】台湾とは、非政府間の実務関係となっているが、日本との貿易総額は大きい。



知 2 右の地図を見て、次の問いに答えなさい。

知 (1) 世界一の人口をかかえている国または地域を地図中の①～⑥から選び、番号を書きなさい。

(②)

知 (2) ②の国で、人口の約9割をしめる民族名を書きなさい。

【ポイント】漢族の大多数は、沿岸部に住んでいる。

(漢族)

知 (3) 地図中の②の国を経て伝わり、③～⑥の国や地域などで信仰されている宗教を、次のア～エから1つ選び、記号を書きなさい。

- ア キリスト教 イ イスラム教
 ウ 仏教 エ ヒンドゥー教

(ウ)

知 (4) 右の絵は、ある民族の伝統的な衣服です。この衣服を着る民族が主に住む国や地域を地図中の①～⑥から2つ選び、記号を書きなさい。

(順不同・完答)

【ポイント】右の絵は、チマ・チョゴリで朝鮮半島の伝統的な衣服である。

(③) (④)

知 (5) 地図中の②～⑥の大部分の地域の人々が主食としている農産物名を書きなさい。

(米)



21

世界の諸地域 アジア州

東南アジア

名前

年 組 番

/ 31 問

知 1 右の地図を見て、次の問いに答えなさい。

(1) 地図中の①～⑪の国名を、それぞれ書きなさい。

- ① (ミャンマー) ② (タイ)
 ③ (ラオス) ④ (ベトナム)
 ⑤ (カンボジア) ⑥ (マレーシア)
 ⑦ (シンガポール) ⑧ (ブルネイ)
 ⑨ (インドネシア) ⑩ (フィリピン)
 ⑪ (東ティモール)

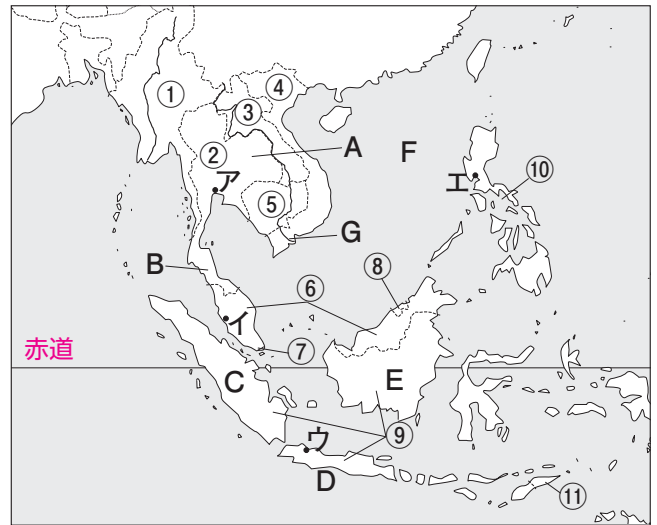
(2) 地図中のア～エは、②・⑥・⑨・⑩の国の首都を示しています。それぞれの都市名を書きなさい。

- ア (バンコク)
 イ (クアラルンプール)
 ウ (ジャカルタ)
 エ (マニラ)

(3) 地図中のA・Bの半島名、C・D・Eの島名、Fの海名、Gの河川名を、それぞれ書きなさい。

- A (インドシナ) 半島 B (マレー) 半島 C (スマトラ) 島
 D (ジャワ) 島 E (カリマンタン(ボルネオ)) 島 F (南シナ海)
 G (メコン) 川

【注意！】 地図中の緯線は赤道で、スマトラ島とカリマンタン島を横切っている。



知 2 右の地図を見て、次の問いに答えなさい。

(1) 地図中の⑥や⑦などの国は、国内にさまざまな (ア) が住み、複数の (イ) が使用されています。ア・イにあてはまる語句を書きなさい。

- ア (民族) イ (言語)

(2) 東南アジアの国々には、華人と呼ばれる人々が、国籍を取って数多くくらしています。華人はどこからやって来た人々ですか。次のア～ウから選んで記号を書きなさい。

- ア インド イ 朝鮮半島 ウ 中国

(ウ)

(3) 地図中のA～Cで主に信仰されている宗教を書きなさい。

- A (仏教) B (イスラム教) C (キリシト教)

(4) 地図中の → は、夏の風向きを示しています。この風を何といいますか。カタカナで書きなさい。

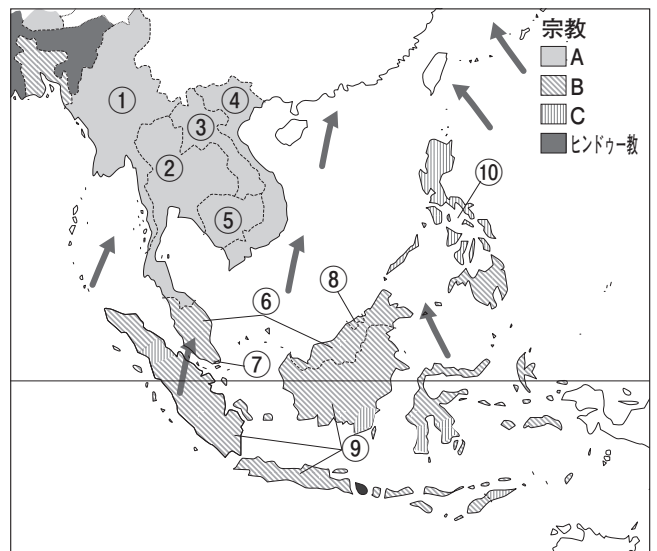
- 【ポイント】 モンスーンは季節風ともいい、この風の影響で季節がはっきりしている。 (モンスーン)

(5) (4)の風によってもたらされる雨を利用して、東南アジアで広くつくられている農産物は何ですか。

(米)

(6) 地図中の①～⑩の国が加盟し、東南アジアの経済分野などでの地域協力を進めている組織の名称を書きなさい。

- (東南アジア諸国連合 (ASEAN, アセアン))



22

世界の諸地域 アジア州

南アジア

名前

年 組 番

/ 23 問

知 1 右の地図を見て、次の問いに答えなさい。

(1) 地図中の①～⑥の国名を、それぞれ書きなさい。

- ① (**パキスタン**) ② (**インド**)
 ③ (**ネパール**) ④ (**ブータン**)
 ⑤ (**バングラデシュ**) ⑥ (**スリランカ**)

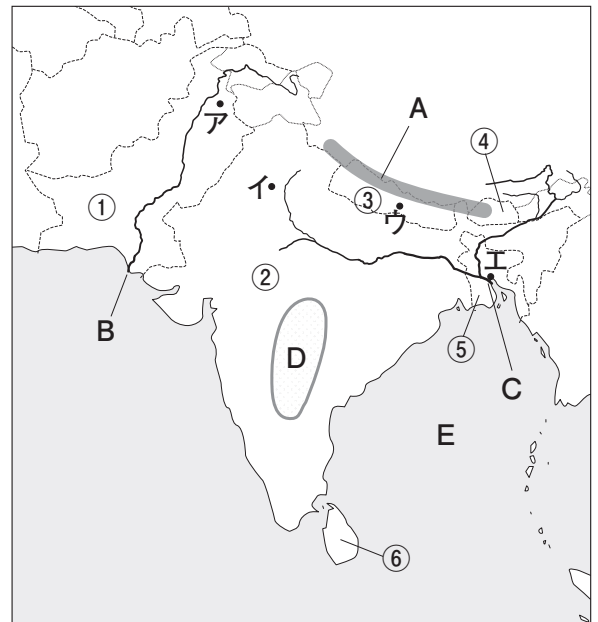
(2) 地図中のア～エは、①～③、⑤の首都を示しています。
 それぞれの首都名を書きなさい。

- ア (**イスラマバード**) イ (**デリー**)
 ウ (**カトマンズ**) エ (**ダッカ**)

(3) 地図中のAの山脈名、B・Cの河川名、Dの高原名、
 Eの湾名を、それぞれ書きなさい。

ポイント ヒマラヤ山脈は、
 世界の屋根といわれ、世界最
 高峰のエベレスト山がある。

- A (**ヒマラヤ**) 山脈
 B (**インダス**) 川
 C (**ガンジス**) 川
 D (**デカン**) 高原
 E (**ベンガル**) 湾



知 2 右の地図を見て、次の問いに答えなさい。 **ポイント** インドの人口は約 12 億人(2012 年)。

知 (1) 世界第2位の人口をかかえる国を地図中の①～⑥から
 1つ選び、番号を書きなさい。 (**②**)

知 (2) 地図中の②の国で使われている紙幣には、多くの言語
 による表記が見られますが、これは多くの () が
 くらしているからです。 () にあてはまる語句を
 2文字で書きなさい。

(**民族**)

知 (3) 地図中のA～Cで主に信仰されている宗教を次のア
 ～オから1つずつ選び、記号を書きなさい。

- ア キリ基督教 イ イスラム教 ウ 仏教
 エ ヒンドゥー教 オ ユダヤ教

A (**イ**) B (**エ**) C (**ウ**)

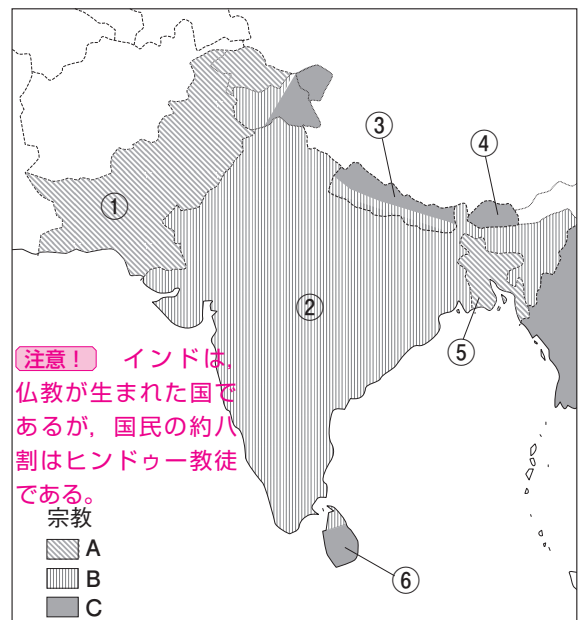
知 (4) 次の文中の () にあてはまる語句を、それぞれ書き
 なさい。

南アジアでは主に、多くの香辛料を使った辛いカレー料理が食べられている。地図中の②の国では、
 北部で (**㊸**) がとれるためナンやチャパティ、南部や東部では (**㊹**) がとれるためこれを炊い
 たものをカレーとともに食べることが多い。

㊸ (**小麦**) ㊹ (**米**)

知 (5) 近年経済発展がめざましく、自動車工業や、情報技術(IT)や情報通信技術 (ICT) の関連産業などが
 発展している国を地図中の①～⑥から1つ選び、番号を書きなさい。

(**②**)



注意! インドは、
 仏教が生まれた国で
 あるが、国民の約八
 割はヒンドゥー教徒
 である。

宗教
 A
 B
 C

23

世界の諸地域 アジア州

中央アジア,西アジア

名前

年 組 番

/ 32 問

知 1 右の地図を見て、次の問いに答えなさい。

(1) 地図中の①～⑪の国名を、それぞれ書きなさい。

- ポイント** カザフスタン、① (カザフスタン)
 ウズベキスタン、トルクメニスタンは、ソビエト社会主義共和国連邦(ソ連)に属していたが、1991年にソ連が解体したときに独立した。
 ② (ウズベキスタン)
 ③ (トルクメニスタン)
 ④ (トルコ)
 ⑤ (ヨルダン)
 ⑥ (イラク)
 ⑦ (クウェート)
 ⑧ (アラブ首長国連邦)
 ⑨ (サウジアラビア)
 ⑩ (イラン)
 ⑪ (アフガニスタン)

(2) 地図中のア～カは、②・④・⑥・⑧・⑨・⑩の首都を示しています。それぞれの都市名を書きなさい。

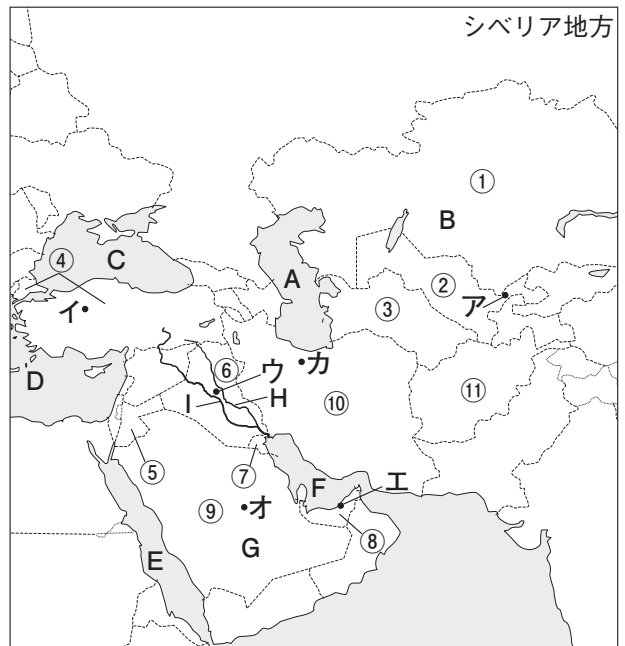
- ア (タシケント) イ (アンカラ) ウ (バグダッド)
 エ (アブダビ) オ (リヤド) カ (テヘラン)

(3) 地図中のA・Bの湖名、C～Eの海名、Fの湾名、Gの半島名、H・Iの河川名を、それぞれ書きなさい。

- A (カスピ海) B (アラル海) C (黒海)
 D (地中海) E (紅海) F (ペルシャ(ペルシア)湾)
 G (アラビア) 半島 H (チグリス(ティグリス)) 川 I (ユーフラテス) 川

(4) 地図中のシベリア地方とは、何という国の一部ですか。

(ロシア連邦)



思 知 2 右の地図を見て、次の問いに答えなさい。

思 (1) 地図中のA～Cで主に信仰されている宗教を次のア～オから1つずつ選び、記号を書きなさい。

- ア キリスト教 イ イスラム教 ウ 仏教
 エ ヒンドゥー教 オ ユダヤ教

A (ア) B (イ) C (オ)

知 (2) 地図中の□の国々は、かつて大きな国家の一部でした。1991年に解体したこの国の名を書きなさい。

(ソビエト社会主義共和国連邦 (ソ連, ソビエト連邦))

知 (3) 中央アジア、西アジアの大部分の地域の気候として正しいものを、次のア～エから1つ選び、記号を書きなさい。

- ポイント** 中央アジアや西アジアの気候は、ほとんどが乾燥帯に属している。
 ア 一年中気温が高く雨が多い。
 イ 四季があり雨も適度に降る。
 ウ 雨がほとんど降らず砂漠が広がる。
 エ 一年中同じような気温で比較的すずしい。

(ウ)

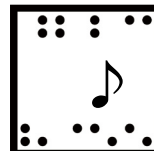




世界の諸地域 アジア州

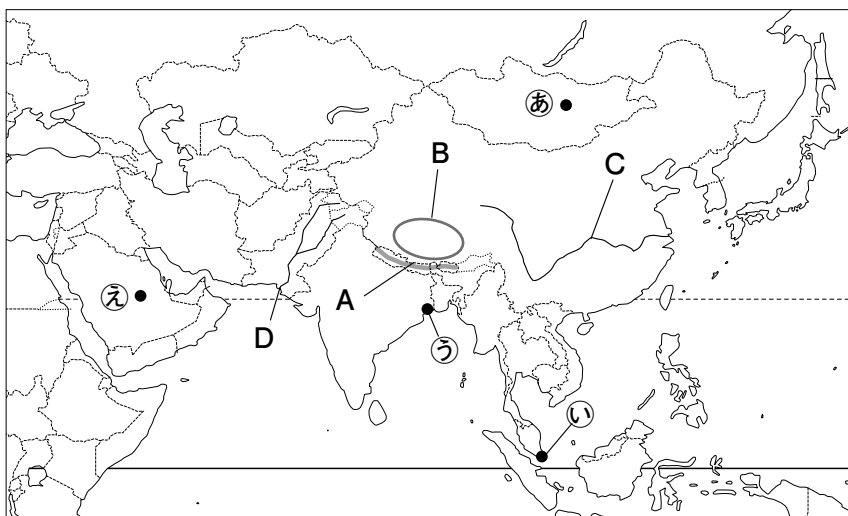
年 組 番
名前

思考・判断・表現 / 2 問
技 能 / 2 問
知識・理解 / 14 問
/ 100 点



(2)(5)(3)(4)は各10点,その他各5点)

知 技 1 次の地図を見て、あとの問いに答えなさい。



知 (1) 地図中のAの山脈名, Bの高原名, C・Dの河川名を、それぞれ書きなさい。

A (ヒマラヤ 山脈)
B (チベット 高原)
C (長江(チャンチアン))
D (インダス川)

技 (2) 右の雨温図は、地図中の①～⑤のどの都市の気温と降水量を表していますか。あてはまる記号を1つずつ選んで書きなさい。

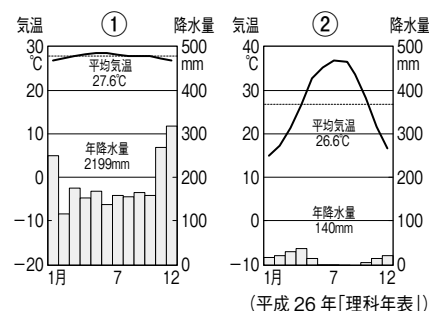
① (①) ② (⑤)

知 (3) インドシナ半島やインド半島などで、夏と冬にそれぞれ雨季と乾季をもたらす風を何といいますか。 (季節風 (モンスーン))

知 (4) アジアの人口は、世界の中で約何割ですか。次のア～エから1つ選び、記号を書きなさい。 (ウ)

ア 約1割 イ 約4割 ウ 約6割 エ 約8割

ポイント アジアの人口は42.5億人、世界の人口は71億人で、アジアの人口は約6割である(2012年)。



知 図 2 次の問いに答えなさい。

知 (1) 西アジアの砂漠の中で水が得られるところでは、わずかながら農業が行われています。このような場所を何といいますか。 (オアシス)

知 (2) 東南アジアや南アジアなどで、植民地時代に欧米の資本と現地の安い労働力が結びついて発達した大農園を何といいますか。カタカナ8字で書きなさい。ポイント プランテーションでは、(プランテーション) 特定の商品作物を大量に栽培した。

知 (3) アジアで(2)の大農園で栽培される農作物には、どんなものがありますか。2つ書きなさい。
(例) コーヒー、アブラやし (例) 天然ゴム (例) バナナ

知 (4) 東南アジアや南アジアなどの温暖な地域では、米を1年に2度つくることができます。この農法を何といいますか。 (二期作)

知 (5) (4)の地域では、1960年代から米の収穫量が増えました。その理由を1つ書きなさい。
((例) 新しい品種が導入されたため。(かんがい設備が整ったため。))

知 恵 3 次の問いに答えなさい。

知 (1) 次の文の () にあてはまる語句を下のア～エから選び、記号を書きなさい。

石油の産出がさかんな西アジアの国々は、石油輸出国機構〈略して ()〉をとおした結びつきが強い。また、中央アジアも地下資源にめぐまれ、石油や天然ガス、希少金属（レアメタル）などが豊富である。 (エ)

ア GHQ イ NATO ウ WTO エ OPEC

知 (2) 中央アジアには、かつて西アジアと東アジアを結んだ交通路の歴史的遺産が数多くあります。この交通路を何といいますか。 (シルクロード(絹の道))

知 (3) インドでおもに信仰されている多神教で、南アジアや東南アジアの一部でも信仰されている宗教名を書きなさい。

(ヒンドゥー教)

知 (4) マレーシアやインドネシアなどの多民族国家について、簡単に説明しなさい。

((例) 複数の民族が暮らし、複数の言語や宗教が見られる国家。)

4

世界の諸地域

アジア州

名前

年 組 番

/ 18 問

知

●重要図のポイント● () にあてはまる語句を書きましょう。

世界最高峰のエベレスト山がある

「世界の屋根」(ヒマラヤ) 山脈

ユーラシア大陸

インド洋に
そそぐ大河
(インダス) 川

中国を流れる大河
黄河 (ホワンホー) と

(長 江)
(チャンチアン)

ポイント 長江は全
長は 6300km で、ア
ジアで最長、世界でも
第 3 位である。

アラビア半島

インド半島の南に広がる
インド洋

●要点のまとめ● 次の文中の () にあてはまる語句を、下の [] から選んで書きましょう。

■アジアの気候

- ・内陸…ステップ気候や (砂 漠) 気候
- ・中央の高地…高山気候
- ・海岸に近い東部…四季がはっきりしている
- ・インドシナ半島やインド半島… (雨 季) と乾季
- ・赤道付近…一年中高温で雨が多い

■アジアの人口

世界の人口ベスト 5 (2015 年)	
国名	人口 (人)
中国	13 億 7917 万
インド	13 億 1105 万
アメリカ合衆国	3 億 2142 万
インドネシア	2 億 5546 万
ブラジル	2 億 445 万

(「世界人口年鑑」2015 年版)

世界の約 6 割の人口がアジアに住み、とくに中国と (インド) の人口は 10 億人以上と多い。1 km² あたりの (人口密度) が高い地域も多く、東南アジアのバンコクやジャカルタなどでは、人口の急速な増加によって交通渋滞や生活環境の悪化、スラムの形成などの (都市問題) が起きている。

■アジアの農業

米の栽培がさかんで、年に 2 回米をつくる二期作の地域もある。1960 年代に南アジアや東南アジアで (かんがい) 設備が整い、収穫量が増えた。また、植民地の時代につくられた (プランテーション) では、ゴムやコーヒーなどが大規模につくられてきた。一方、砂漠が広がり、雨の少ない西アジアや中央の高地などでは牧畜がさかんである。

[プランテーション 人口密度 砂漠 都市問題 雨季 インド かんがい]

知 ●要点のまとめ● 次の文中の（ ）にあてはまる語句を、下の〔 〕から選んで書きましょう。

ちゅうごく
■中国やインドの
はってん
工業発展

中国では沿海部に外国企業受け入れの（ **経済特区** ）が設けられ、インドでは（ **数 学** ）などの理系や英語の教育水準が高く、国や州が技術者育成の援助を行っており、それぞれ自動車産業などが成長している。また、中国や台湾、インドなどでは、コンピューターやソフトウェアなどの（ **情報技術** ）(IT)産業がさかんで、アメリカで働いた人々などが活躍している。

■外国企業の進出

中国やインド、東南アジアの国々などは、労働力が豊富で賃金も安い。経済発展により（市場）としても有望なため、外国企業の進出が増えている。

■日本への輸出

日本の家電製品や家具、衣類などは、多くが中国や東南アジアの国々でつくられている。タイやインドネシアの海岸の（ マングローブ ）林では日本へ輸出されるえびが養殖され、フィリピンの農園では日本向けバナナなどが栽培されている。

ちいき
■農村地域

中国や東南アジアなどでは、都市の周辺に工業団地や住宅団地が増えている。一方、内陸部の（**農村**）などでは、都市への出かせぎ労働者が多い。国内で地域ごとの経済格差が拡大している。

■西アジアと中央アジア

西アジアでは、アラビア語が話されている国が多い。石油の産出がさかんで、石油輸出国機構（OPEC）に属している国が多い。中央アジアも石炭や石油、天然ガス、（**希少金属**）（レアメタル）などの地下資源が豊富である。西アジア、中央アジアでは、ほとんどの人々がイスラム教徒である。

■多様な民族

中国では、漢族が人口の9割をしめ、そのほかに多くの少数民族がいる。マレーシアやインドネシアなどはマレー人、中国系の華人、インド系の民族などがくらし、宗教もイスラム教、仏教、ヒンドゥー教、キリスト教が信仰されている。このような国を（多民族国家）とよぶ。

[市場 マングローブ 情報技術 多民族国家 農村 経済特区 希少金属 数学]

●用語● マングローブ 熱帯や亜熱帯の入り江や河口に生えている、常緑広葉樹のこと。周囲は魚類などが生息し、災害から海岸を守る働きをしている。

<div style="font-size: 48px; font-weight: bold;">4</div>	世界の諸地域 <div style="font-size: 36px; font-weight: bold;">アジア州</div>	年 組 番 名前	/ 15 問

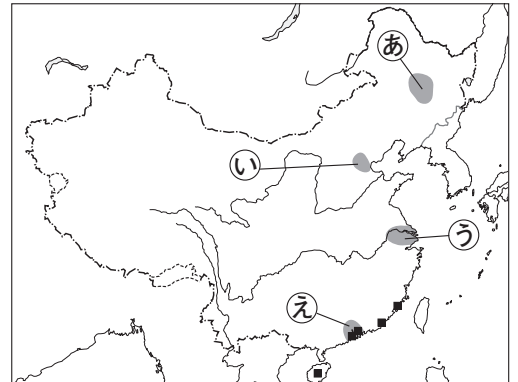
【知 技 思】 1 次の問いに答えなさい。

【知】 (1) 右の地図中の■は、中国政府が指定し、外国企業の進出を受け入れるために設けられた地区です。これらの地区を何といいますか。

【ポイント】 沿岸部に外国企業を受け入れる (経済特区(経済特別区)) 経済特区を設けた。

【技】 (2) 中国は近年、工業がめざましく発達しましたが、工業が発達した地域としてあてはまらないものを地図中の㉔～㉚から1つ選び、記号を書きなさい。

(㉔)



【知】 (3) 東アジアから南アジアにかけて、季節によりふく向きの変わる風のことを何といいますか。

(季節風(モンスーン))

【知】 (4) 中国で人口増加を抑制するために1970年代末から2015年まで行われていた政策を、何といいますか。

(一人っ子政策)

【思】 (5) 中国の沿岸部と内陸部で人々の現金収入に大きな差が生まれている理由を、簡単に書きなさい。

((例) 沿岸部では工業が発達しているが、内陸部は農業が中心であるため。)

【知】 (6) 住んでいる国の国籍を取得して定着した、中国系の人々を何といいますか。

(華人)

【知 思】 2 次の問いに答えなさい。

【知】 (1) 東南アジアの国々や中国などから日本へ輸出される品目で、近年増加しているものを次のア～エから1つ選び、記号を書きなさい。

ア 米 イ 機械類 ウ 原油 エ 木材

(イ)

【知】 (2) 韓国、台湾、ホンコン、シンガポールは工業化が急速に進んで経済成長をとげ、「新興工業経済地域」とよばれています。「新興工業経済地域」の略称を次のア～エから1つ選び、記号を書きなさい。

ア AU イ NIES ウ EU エ APEC

【ポイント】 ア AUは、アフリカ連合のこと。

(イ)

【知】 (3) タイやマレーシアなどが加盟する「東南アジア諸国連合」を略して何といいますか。カタカナ4字で書きなさい。

(アセアン)

【知】 (4) インドでは1990年代以降、経済の自由化が進んでいます。とくに成長している産業を次のア～エから2つ選び、記号を書きなさい。

ア 食品加工 イ 自動車 ウ 情報技術 エ 金属加工

(順不同)

(イ) (ウ)

【思】 (5) インドの急速な経済成長は、優秀な技術者に支えられています。優秀な技術者が多く生まれている理由を、「英語」「数学」の語句を用いて、簡単に書きなさい。

((例) 英語や数学の教育の水準が高いため。)

【知 技 思】 3 右の地図を見て、次の問いに答えなさい。

- 【技】 (1) 右のグラフのXにあてはまる 日本の原油輸入先の国別割合
国を、地図中のA～Dから選び、
記号を書きなさい。

(C)

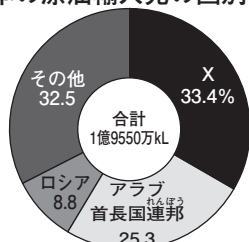
- 【知】 (2) 1960年に、地図中のBやC
などの石油産出国が結成した組
織を何といいますか。 アルファ
ベット4字で書きなさい。

(OPEC)

- 【思】 (3) 地図中の西アジアの人々の生活について、「輸出」「豊か」
の語句を用いて、簡単に説明しなさい。

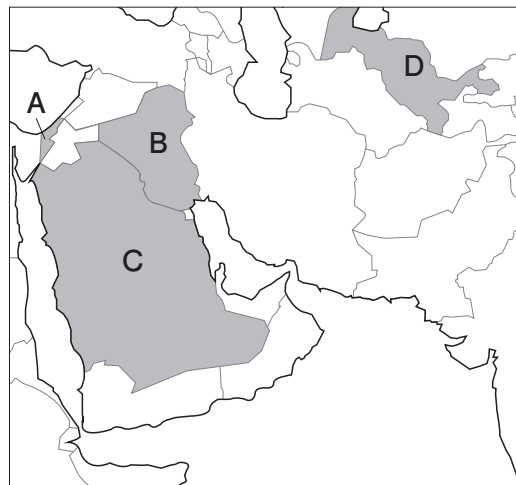
((例) 原油(石油)を輸出して、お金をもうけ、豊かな生活をおくる人が増えてきている。)

【ポイント】 西アジアは石油の産出量が多く、その大半を輸出して、豊富な資金を得ている。



(2015年)

(「日本国勢図会」2016/17年版)





世界の諸地域 アジア州

名前

年 組 番

思考・判断・表現 / 2問

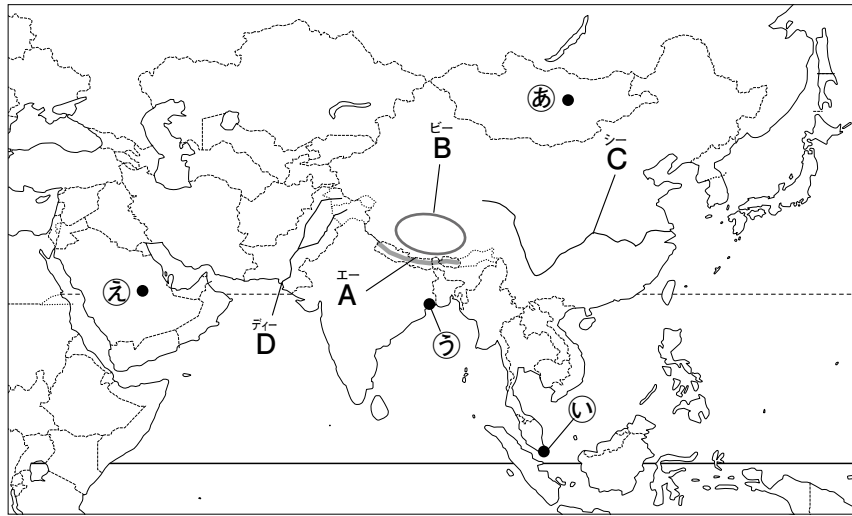
技 能 / 2問

/ 100点 知識・理解 / 14問



(2)(5),(3)(4)は各10点,その他各5点)

知 技 1 次の地図を見て、あとの問いに答えなさい。



知 (1) 地図中の A の 山脈名, B の 高原名, C・D の 河川名を, それぞれ 書きなさい。

エー A (ヒマラヤ 山脈)
ビー B (チベット 高原)
シー C (長江(チャンチアン))
ディー D (インダス川)

技 (2) 右の 雨温図は, 地図中の ㉔～㉙ の どの 都市の 気温と 降水量を 表して いますか。あてはまる 記号を 1つずつ 選んで 書きなさい。

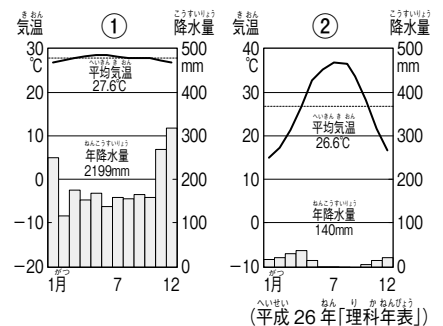
① (㉕) ② (㉙)

知 (3) インドシナ半島や インド半島などで, 夏と 冬に それぞれ 雨季と 乾季を もたらす 風を 何と いいますか。 (季節風 (モンスーン))

知 (4) アジアの 人口は, 世界の 中で 約何割ですか。次の ア～エから 1つ 選び, 記号を 書きなさい。 (ウ)

ア 約1割 イ 約4割 ウ 約6割 エ 約8割

ポイント アジアの 人口は 42.5 億人, 世界の 人口は 71 億人で, アジアの 人口は 約6割である(2012年)。



知 図 2 次の問いに答えなさい。

知 (1) 西アジアの 砂漠の 中で 水が 得られる ところでは, わずかながら 農業が 行われて います。このような 場所を 何と いいますか。 (オアシス)

知 (2) 東南アジアや 南アジアなどで, 植民地時代に 欧米の 資本と 現地の 安い 労働力が 結びついて 発達した 大農園を 何と いいますか。カタカナ 8字で 書きなさい。 (プランテーション)

ポイント プランテーションでは, 特定の 商品作物を 大量に 栽培した。

知 (3) アジアで (2)の 大農園で 栽培される 農作物には, どんな ものが ありますか。2つ 書きなさい。

(例) コーヒー, アブラやし (例) 天然ゴム (例) バナナ

知 (4) 東南アジアや 南アジアなどの 温暖な 地域では, 米を 1年に 2度 つくる ことができます。この 農法を 何と いいますか。 (二期作)

図 (5) (4)の 地域では, 1960 年代から 米の 収穫量が 増えました。その 理由を 1つ 書きなさい。

(例) 新しい 品種が 導入された ため。(かんがい設備が 整った ため。)

知 思 3 次の問いに答えなさい。

知 (1) 次の文の () に あてはまる 語句を 下の ア～エから 選び、記号を 書きなさい。

石油の 産出が さかんな 西アジアの 国々は、石油輸出機構〈略して ()〉を とおした 結びつきが 強い。また、中央アジアも 地下資源に めぐまれ、石油や 天然ガス、希少金属 (レアメタル) などが 豊富である。

(エ)

ア GHQ イ NATO ウ WTO エ OPEC

知 (2) 中央アジアには、かつて 西アジアと 東アジアを 結んだ 交通路の 歴史的遺産が 数多く あります。この 交通路を 何と いいますか。
(シルクロード(絹の道))

知 (3) インドで おもに 信仰されて いる 多神教で、南アジアや 東南アジアの 一部でも 信仰されて いる 宗教名を 書きなさい。

(ヒンドゥー教)

思 (4) マレーシアや インドネシアなどの 多民族国家について、簡単に 説明しなさい。

((例) 複数の 民族が 暮らし、複数の 言語や 宗教が 見られる 国家。)